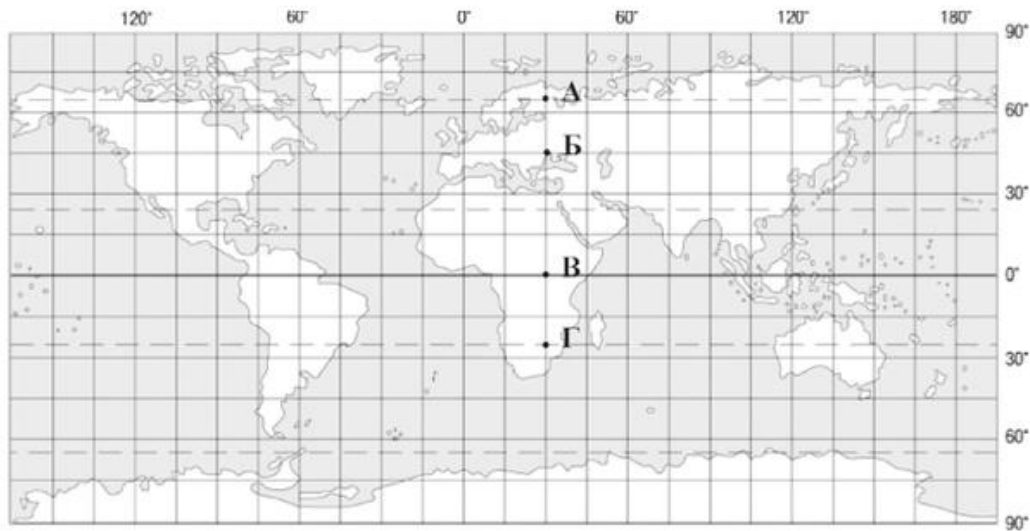


Пробне тестування з географії 2010 р.

1. Який учений вперше застосував назву «географія» до науки про Землю?
А Арістотель
Б Ератосфен
В Меркатор
Г Бехайм
2. У якій із позначених на карті точок сонце перебуває в зеніті двічі на рік?



- А
Б
В
Г
3. Які форми рельєфу мають льодовикове походження?
А бархани, дюни
Б яри, балки
В поди, блюдця
Г цирки, моренні горби
 4. Як називають лінії на карті, що з'єднують точки з однаковою кількістю опадів?
А ізобати
Б ізотерми
В ізобари
Г ізогіети
 5. У яких межах коливається температура морської води на глибині більше 1000 м?
А $-0,5^{\circ}\text{C} — + 0,5^{\circ}\text{C}$
Б $0^{\circ}\text{C} — + 2^{\circ}\text{C}$
В $+ 2^{\circ}\text{C} — + 5^{\circ}\text{C}$
Г $+ 5^{\circ}\text{C} — + 10^{\circ}\text{C}$

6. Які ґрунти сформувалися на лесових породах під лучними степами?
А чорноземи опідзолені
Б чорноземи типові
В чорноземи звичайні
Г лучно-чорноземні
7. Проявом якої загальногеографічної закономірності є зміна властивостей природних компонентів від екватора до полюсів?
А цілісність
Б ритмічність
В висотна поясність
Г широтна зональність
8. Визначте правильне твердження про природу Тихого океану.
А цей океан розміщений у всіх кліматичних поясах
Б солоність його поверхневих вод вища, ніж в інших океанах
В у його водах сконцентрована 1/4 біомаси Світового океану
Г атоли зосереджені у західній і центральній частинах цього океану
9. Визначте географічні координати точки, що позначена на карті буквою Z.



- А 40° пн. ш., 120° зх. д.
Б 40° пд. ш., 120° сх. д.
В 120° пд. ш., 40° зх. д.
Г 120° пн. ш., 40° сх. д.

10. Яке озеро називають «Мертвим серцем» Австралії?

А Велике Солоне

Б Ейр

В Чад

Г Баскунчак

11. У якому регіоні Південної Америки зосереджені найбільші родовища мідних руд?

А Ла-Платська низовина та Патагонія

Б центральна частина Бразильського плоскогір'я

В Оринокська низовина та прилеглі передгір'я

Г Центральні Анди та західне узбережжя

12. Укажіть правильне твердження про льодовиковий покрив Антарктиди.

А Через зледеніння підльодовикова поверхня Антарктиди вища, ніж поверхня інших материків.

Б У льодовиковому щиті Антарктиди об'єм прісної води менший, ніж у річках та озерах світу.

В Льодовиковий щит, сповзаючи в море, перетворюється у шельфовий льодовик.

Г Льодовиковий покрив спричиняє розломи в земній корі та утворення вулканів на материку.

13. На якій фотографії зображено типовий ландшафт западина Конго?



14. Укажіть традиційні заняття корінних жителів Чукотського півострова.

А мисливство, оленярство, рибальство

Б конярство, звірівництво, рибництво

В вівчарство, оленярство, бджільництво

Г скотарство, свинарство, птахівництво

15. Яка крайня точка України розміщена на межі з Угорщиною?

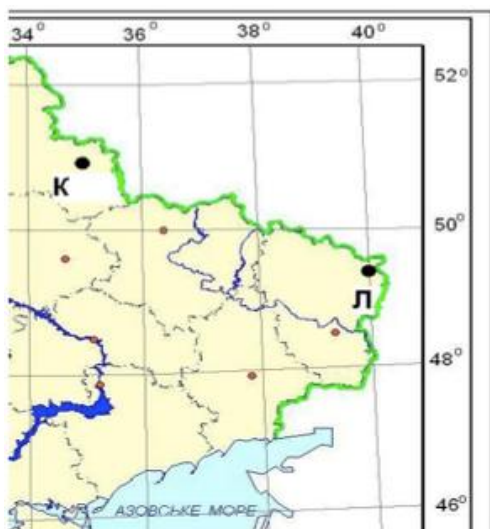
А с. Грем'яч

Б с. Соломонове

В мис Сарич

Г с. Червона Зірка

16. Скориставшись фрагментом карти, визначте місцевий час у пункті Л, якщо в пункті К місцевий час у цей момент 17 год 04 хв.



- А 16 год 40 хв
Б 16 год 44 хв
В 17 год 24 хв
Г 17 год 28 хв
17. Яка низовина України найбільше заболочена і має значне поширення карстових процесів?
А Поліська
Б Причорноморська
В Північнокримська
Г Закарпатська
18. Для якого геохронологічного періоду найімовірнішим є зображений на малюнку ландшафт?



- А палеогенового
Б юрського
В кам'яновугільного
Г кембрійського

19. Визначте альбедо земної поверхні за таких показників сонячної радіації (у МДж/м²) за місяць: пряма — 200, розсіяна — 100, відбита — 150.
- А 80 %
 - Б 75 %
 - В 50 %
 - Г 30 %
20. Яка фізико-географічна область Українських Карпат має добре виражену висотну пояси́сть ландшафтів і давньольодовикові кари, морени?
- А Полонинсько-Чорногірська
 - Б Вулканічно-Карпатська
 - В Вододільно-Верховинська
 - Г Зовнішньокарпатська
21. Чому в Чорному морі починаючи з глибин 150—200 м і до дна у воді розвиваються лише анаеробні бактерії?
- А вода насичена сірководнем
 - Б солоність води вища середньої в океані
 - В низькі температури водної маси
 - Г води забруднені стоками
22. Яка область України має найбільшу густоту (щільність) сільського населення?
- А Луганська
 - Б Сумська
 - В Чернівецька
 - Г Херсонська
23. Якою буквою позначено на картосхемі район компактного проживання болгар в Україні?



- А
- Б
- В
- Г

24. Спеціалізація окремих країн на виробництві певної продукції та наданні певних послуг для товарного обміну ними на світовому ринку — це
- А міжнародне кооперування.
 - Б менеджмент і маркетинг.
 - В міжнародний поділ праці.
 - Г світова торгівля.
25. Визначте тип Бурштинської, Ладизинської, Трипільської електростанцій.
- А гідравлічні
 - Б атомні
 - В теплові
 - Г геотермальні
26. У якому промисловому центрі України розміщені комбінати чорної металургії?
- А Маріуполі
 - Б Мелітополі
 - В Миколаєві
 - Г Миргороді
27. Якщо інвестор планує збудувати завод з виробництва сільськогосподарської техніки, то якою тематичною картою України в першу чергу він скористається, щоб обрати місто для проектування і розміщення підприємства?
- А «Електроенергетика»
 - Б «Чорна металургія»
 - В «Агропромисловий комплекс»
 - Г «Геоecологічна ситуація»
28. Яка галузь господарства відноситься до сфери послуг?
- А будівництво
 - Б промисловість
 - В сільське господарство
 - Г житлово-комунальне господарство
29. Якою буквою позначено на картосхемі регіон України, що спеціалізується на зерновому господарстві, вирощуванні цукрових буряків, соняшника, свинарстві, молочно-м'ясному скотарстві?
- А
 - Б
 - В
 - Г



30. Які області утворюють Подільський економічний район?
- А Черкаська, Кіровоградська
 - Б Рівненська, Волинська
 - В Чернігівська, Житомирська
 - Г Вінницька, Хмельницька
31. Який економічний район має найбільші в Україні розвідані запаси природного газу?
- А Столичний
 - Б Північно-Східний
 - В Придніпровський
 - Г Карпатський
32. Про який економічний район України в довіднику подано таку інформацію: « ... найбільший за кількістю населення в країні, має потужний промисловий комплекс, спеціалізується на вугільній, металургійній, хімічній, машинобудівній, енергетичній галузях промисловості »?
- А Центральний
 - Б Північно-Західний
 - В Донецький
 - Г Причорноморський
33. Яка європейська держава є членом ЄС, проте не входить до НАТО?
- А Швеція
 - Б Румунія
 - В Швейцарія
 - Г Норвегія
34. У якому рядку вказано лише держави-монархії?
- А Марокко, Бельгія, Йорданія
 - Б Японія, Єгипет, Лівія
 - В Франція, Іспанія, Малайзія
 - Г Бразилія, Данія, Польща
35. Країна, де серед віруючих переважають мусульмани.
- А Індія
 - Б Єгипет
 - В Колумбія
 - Г Намібія
36. У якій країні більшість жителів розмовляє німецькою мовою?
- А Австрія
 - Б Андорра
 - В Австралія
 - Г Аргентина

37. Який із зазначених у таблиці видів мінеральних ресурсів у країні S скінчиться раніше, якщо обсяги видобутку сировини не зміняться?

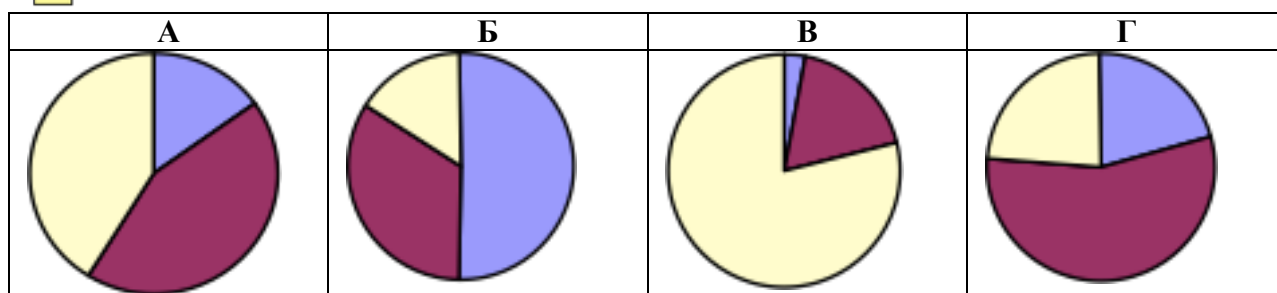
	Вид мінеральної сировини	Запаси мінеральної сировини	Щорічний видобуток сировини
А	золото, т	90	3
Б	природний газ, млрд м ³	100	2
В	нафта, млн т	200	5
Г	кам'яне вугілля, млн т	5000	25

38. Ураховуючи особливості галузевої структури (за відсотком зайнятих), укажіть діаграму, яка характеризує країну, що розвивається.

 Сільське та лісове господарство

 Промисловість і будівництво

 Сфера послуг



39. Яка держава є світовим лідером з виробництва легкових автомобілів?

А Велика Британія

Б Німеччина

В Росія

Г Японія

40. Де сформувався «кукурудзяний пояс» США?

А на Центральних рівнинах

Б у Флориді

В на Тихоокеанському Заході

Г на Примексиканській низовині

41. У якому федеральному окрузі розташовані промислові центри Російської Федерації Архангельськ, Мурманськ, Санкт-Петербург?

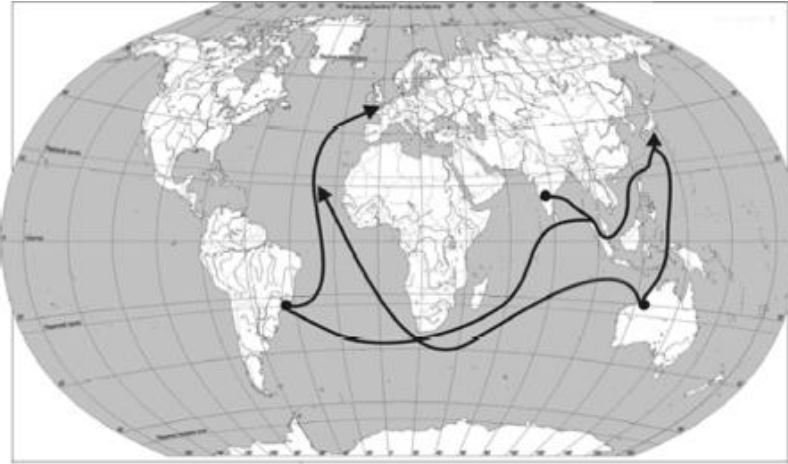
А Уральському

Б Північному

В Сибірському

Г Далекосхідному

42. Які вантажі перевозять основними морськими маршрутами, позначеними на карті?

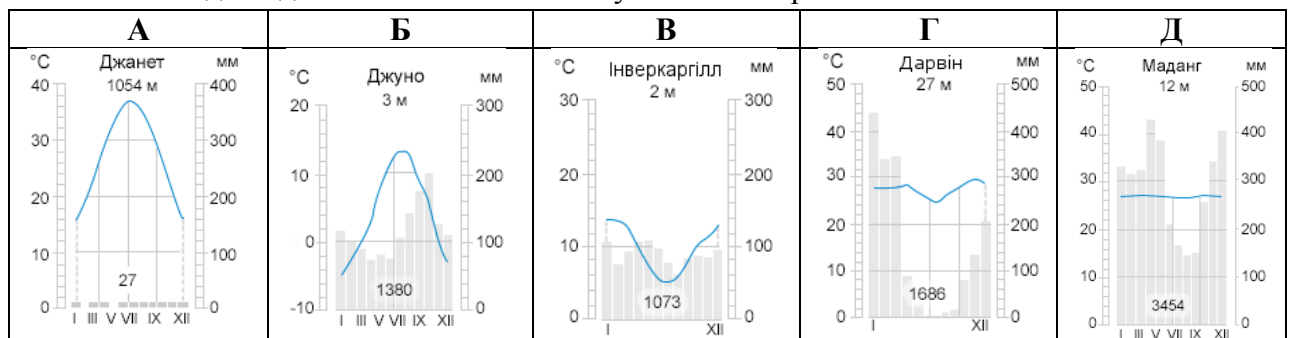


- А яловичину
- Б тканини
- В зерно
- Г верстати

43. Установіть відповідність між геотектонічними поняттями та їхніми визначеннями.

- | | |
|-------------|--|
| 1 плита | А ділянка платформи, де кристалічні породи нижнього ярусу перекриті осадовими відкладами |
| 2 фундамент | Б верхній ярус платформи, утворений осадовими породами |
| 3 щит | В нижній ярус платформи, утворений магматичними та метаморфічними породами |
| 4 чохол | Г ділянка платформи, де відбувається опускання фундаменту по розломах |
| | Д ділянка платформи, де на поверхню виходять кристалічні породи |

44. Установіть відповідність між типом клімату та кліматограмою



- 1 морський помірний клімат Північної півкулі
- 2 тропічний пустельний клімат Північної півкулі
- 3 субекваторіальний клімат Південної півкулі
- 4 морський помірний клімат Південної півкулі

45. Установіть відповідність між географічним об'єктом (явищем) і способом, яким він (воно) зображується на картах України.

- | | |
|---------------------------------------|-----------------------------------|
| 1 ступінь забруднення в межах держави | А спосіб ареалів |
| 2 природні зони | Б спосіб ізоліні |
| 3 тварини, занесені до Червоної книги | В спосіб картограм |
| 4 рудний басейн | Г спосіб якісного фону |
| | Д спосіб значків (позамасштабних) |

46. Установіть відповідність між прізвищем дослідника України та його науковим внеском у розвиток вітчизняної географії.

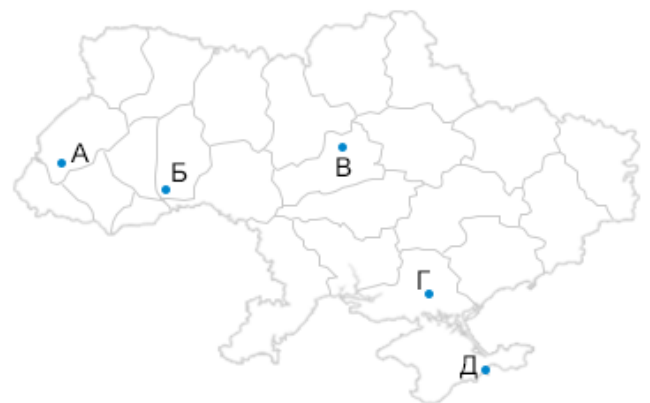
- | | |
|-------------------------|---|
| 1 Володимир Вернадський | А перший президент АН України, розвинув учення про біосферу |
| 2 Павло Тутковський | Б засновник фізичної географії в Україні, організатор Українського науково-дослідного інституту географії і картографії |
| 3 Степан Рудницький | В один із фундаторів ландшафтознавства, обґрунтував можливість розведення лісів у степовій зоні |
| 4 Георгій Висоцький | Г автор першої схеми природно-географічного районування України, описав її природні комплекси |
| | Д видатний ґрунтознавець, досліджував ґрунти лісостепу та степу України, зокрема Полтавщини |

47. Установіть відповідність між річкою-притокою та річковою системою, до якої вона належить.

- | <i>Притока</i> | <i>Річкова система</i> |
|----------------|------------------------|
| 1 Збруч | А Вісли |
| 2 Західний Буг | Б Дніпра |
| 3 Інгул | В Дністра |
| 4 Інгулець | Г Дунаю |
| | Д Південного Бугу |

48. Установіть відповідність між назвами об'єктів природно-заповідного фонду та буквами на картосхемі, якими позначено їхнє місцезнаходження.

- 1 Канівський природний заповідник
- 2 Карадазький природний заповідник
- 3 біосферний заповідник «Асканія-Нова»
- 4 національний парк «Сколівські Бескиди»



49. Установіть відповідність між промисловим підприємством та основним принципом його розміщення.

- 1 швейна фабрика
- 2 авіаційний завод
- 3 завод з виробництва калійних добрив
- 4 алюмінієвий завод

- А наявність трудових ресурсів
- Б близькість комбінату чорної металургії
- В близькість джерел дешевої електронергії
- Г наявність науково-дослідницької бази
- Д наявність мінеральної сировини

50. Установіть відповідність між інформацією про адміністративну область України та буквою, якою цю область позначено на карті.



- 1 порти цієї області виходять до двох морів і великої річки
- 2 по території області проходить нафтопровід «Дружба», а в обласному центрі розміщений льонокомбінат
- 3 область спеціалізується на вирощуванні винограду та виробництві лісохімічної продукції
- 4 область межує з країною, яка є найбільшим імпортером української продукції

51. Установіть відповідність між інформацією, що характеризує державу, та буквою, якою цю державу позначено на карті.



- 1 держава, основне населення якої православної віри
- 2 держава, у межах столиці якої міститься анклав
- 3 у державі чотири державні мови
- 4 у державі кількість населення найбільша серед країн Західної Європи

- 52.** Установіть відповідність між національними парками та країнами, де ці парки розміщені.
- | | |
|-----------------------|---------------------|
| 1 Низькі Татри | А Єгипет |
| 2 Серенгеті | Б Бразилія |
| 3 Ігуасу | В Австралія |
| 4 Улуру | Г Словаччина |
| | Д Танзанія |
- 53.** Установіть послідовність пунктів плану фізико-географічної характеристики території.
- А** внутрішні води
 - Б** клімат
 - В** географічне положення
 - Г** рельєф
- 54.** У якій послідовності експедиція спостерігатиме зміну акваторіальних природних зон Атлантичного океану, якщо вона пливе з півночі на південь від о. Ісландія до Канарських островів?
- А** тропічна зона
 - Б** субарктична зона
 - В** субтропічна зона
 - Г** помірна зона
- 55.** Установіть послідовність побачених пасажиром літака форм поверхні, якщо рухатися по прямій від Івано-Франківська до Луганська.
- А** Донецький кряж
 - Б** Подільська височина
 - В** Придніпровська височина
 - Г** Придніпровська низовина
- 56.** Укажіть послідовність розташування областей України в зоні мішаних лісів із заходу на схід.
- А** Житомирська
 - Б** Чернігівська
 - В** Рівненська
 - Г** Київська
- 57.** У якій хронологічній послідовності людством використовувалися ресурси для промислового виробництва енергії (тепла)?
- А** уранові руди
 - Б** нафта
 - В** дрова
 - Г** кам'яне вугілля

58. Розташуйте країни за показником ВВП на душу населення, починаючи з найбільшого значення.

Країна	Населення (млн осіб)	ВВП (млрд доларів США)
А Китай	1320	10170
Б Росія	142	1746
В Україна	47	300
Г США	300	13131