

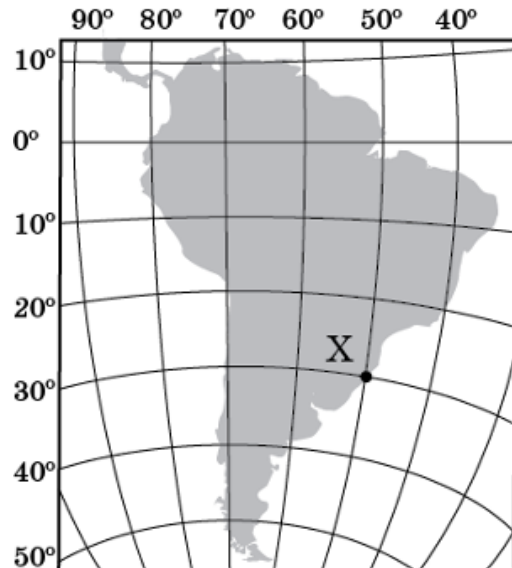
Пробне ЗНО з географії 2015 року

Завдання 1-42 мають чотири варіанти відповіді, серед яких лише один правильний. Виберіть, на Вашу думку, правильний варіант відповіді, позначте його в *бланку А* згідно з інструкцією. Не робіть інших позначок у *бланку А*, тому що комп'ютерна програма реєструватиме їх як **ПОМИЛКИ!**

Будьте особливо уважні, заповнюючи бланк А!

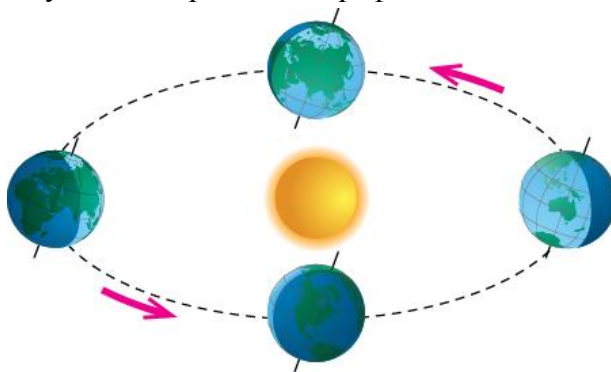
Не погіршуйте власноруч свій результат неправильною формою запису відповідей

1. Яку частину світу було відкрито європейцями під час пошуку морського шляху до Індії?
А Азію
Б Австралію
В Америку
Г Антарктиду
2. Як розміщені на поверхні земної кулі дві віддалені одна від одної точки, у яких одночасно може бути полудень?
А на екваторі
Б на одному меридіані
В на одній паралелі
Г на одному з тропіків
3. За картою визначте географічне розташування точки Х.
А на північ від екватора, у східній півкулі
Б на північ від екватора, у західній півкулі
В на південь від екватора, у східній півкулі
Г на південь від екватора, у західній півкулі



4. До групи осадових гірських порід уламкового походження належить
А кам'яне вугілля.
Б кам'яна сіль.
В вапняк.
Г пісок.

5. Якій водоймі, що містить у назві слово «море», відповідає географічне поняття «море»?
- А Каспійське море
 - Б Мертве море
 - В Київське море
 - Г Азовське море
6. «Річки — дзеркало клімату», — стверджував відомий кліматолог О. І. Воєйков, оцінюючи вплив кліматичних умов на такий показник «життя» річки, як
- А похил.
 - Б режим.
 - В швидкість течії.
 - Г наявність порогів.
7. Які вітри двічі протягом року змінюють свій напрямок на протилежний?
- А бризи
 - Б мусони
 - В пасати
 - Г циклони
8. Яку закономірність географічної оболонки відображено на рисунку?

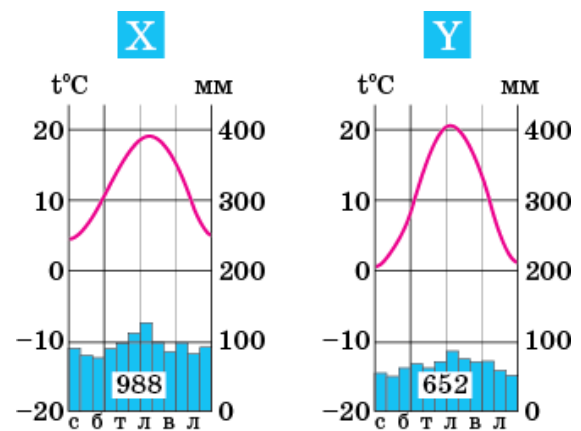


- А цілісність
 - Б ритмічність
 - В висотну поясність
 - Г широтну зональність
9. Тихий океан найтепліший тому, що
- А має найбільшу ширину шельфу й материкового схилу.
 - Б найширша його частина знаходиться в тропічних широтах.
 - В не має водного сполучення з Північним Льодовитим океаном.
 - Г відокремлений масивом суші від Антарктиди.
10. Яка характерна особливість рельєфу Південної Америки?
- А східна частина материка рівнинна, а західна — гірська
 - Б поверхня материка — це поєднання височин і плоскогір'їв
 - В рівнини поширені на узбережжях, а гори — у внутрішніх районах материка
 - Г з півночі на південь низовини переходять у височини й високі гори

11. Єдиний шлях, по якому стікають води чотирьох великих озер — Верхнього, Мічигану, Гурону, Ері, — водоспад
А Учан-Су.
Б Анхель.
В Вікторія.
Г Ніагарський.

12. Що є характерним для льодовикового покриву Антарктиди?
А льодовиковий купол охоплює майже третину площі материка
Б максимальна товщина льодовика не перевищує 200 метрів
В лід сповзає в океан, утворюючи великі шельфові льодовики
Г льодова поверхня зумовлює істотну різноманітність ландшафтів

13. На рисунку зображено кліматодіаграми для двох населених пунктів — **X** та **Y**, які розміщені в Європі на одній широті й висоті над рівнем моря. Пункт **Y** знаходиться східніше пункту **X**, тому що в пункті **Y**



- А більша річна кількість опадів.
Б тепліша зима й прохолодніше літо.
В менше опадів улітку і більше — узимку.
Г більша річна амплітуда коливань температур повітря.
14. У помірному поясі на території Євразії південніше зони лісів знаходяться
А тундра й лісотундра.
Б степ і лісостеп.
В савани й рідколісся.
Г пустелі й напівпустелі.
15. Які ґрунти сформувалися в зоні вологих екваторіальних лісів?
А червоно-жовті
Б сіроземи
В коричневі
Г дерново-підзолисті
16. Україна має ділянку морського кордону з
А Молдовою.
Б Румунією.
В Польщею.
Г Грецією.

17. У межах якої з тектонічних структур на території України сформувалися найбільші родовища залізних, титанових та нікелевих руд?
- А Карпатської складчастої системи
 - Б Донецької складчастої споруди
 - В Українського щита
 - Г Воронезького кристалічного масиву
18. Яка височина на території України відповідає складчастій споруді палеозойського віку?
- А Донецька
 - Б Волинська
 - В Приазовська
 - Г Придніпровська

19. Якою буквою на картосхемі позначено вододіл Дніпра і Дністра?

А
Б
В
Г



20. Який кліматичний показник обмежує ріст деревної рослинності в природній зоні степу на території України?
- А середня температура липня $+21...22^{\circ}\text{C}$
 - Б середня температура січня $-5...7^{\circ}\text{C}$
 - В коефіцієнт зволоження $0,5 - 0,8$
 - Г тривалість безморозного періоду $150 - 225$ днів
21. Яка природоохоронна територія належить до штучно створених?
- А природний заповідник
 - Б біосферний заповідник
 - В національний природний парк
 - Г ботанічний сад

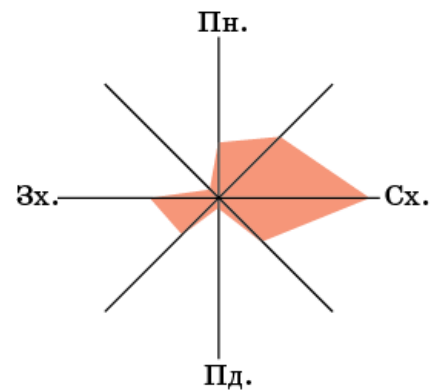
22. Проаналізуйте розу вітрів у Приазов'ї. Що є наслідком впливу переважаючих вітрів у цьому регіоні?

А на річках побудовані гідроелектростанції

Б погоду визначають циклони з Атлантичного океану

В течія в Азовському морі рухається проти годинникової стрілки

Г сміттєзвалища розташовані у східній частині міст



23. Рівень урбанізації в країні визначається

А за часткою міських жителів у загальній кількості населення.

Б за кількістю мешканців міст у розрахунку на одиницю площі країни.

В як співвідношення кількості міських і сільських населених пунктів.

Г як величина внутрішніх міграцій із сіл до міст і селищ міського типу.

24. Галуззю господарства, розвиток, розміщення та ефективність якої безпосередньо залежить від рельєфу місцевості, є

А теплоелектроенергетика.

Б нафтохімічна промисловість.

В роздрібна торгівля.

Г автомобільний транспорт.

25. Прикладом якої форми суспільної організації виробництва є поєднання на одному підприємстві в Запоріжжі виробництва титану й магнію з випуском соляної кислоти, емалей, титанового білила?

А комбінування

Б спеціалізації

В кооперування

Г концентрації

26. Який чинник визначив спеціалізацію Криворізького промислового вузла?

А розташування міста на річці Дніпро

Б розробка біля міста родовищ корисних копалин

В формування в місті науково-дослідної бази

Г високі темпи росту кількості населення

27. На картосхемі України позначено основні центри

- А меблевої промисловості.
- Б фанерного виробництва.
- В лісохімічної промисловості.
- Г целюлозно-паперової промисловості.



28. Підприємство нафтопереробної промисловості розташоване в місті

- А Кременчук.
- Б Миколаїв.
- В Біла Церква.
- Г Івано-Франківськ.

29. Які товари переважають у структурі експорту України?

- А руди чорних металів, сталь, прокат
- Б кам'яне вугілля, нафта, природний газ
- В зерно, бавовна, овочі
- Г шкіра, хутро, одяг

30. Яка автомобільна магістраль проходить у межах Українського Полісся?

- А Київ — Львів — Ужгород
- Б Київ — Полтава — Харків
- В Київ — Умань — Одеса
- Г Київ — Сарни — Ковель

31. У якому економічному районі сільське господарство й харчова промисловість є основними галузями спеціалізації?

- А Столичному
- Б Центральному
- В Придніпровському
- Г Північно-Східному

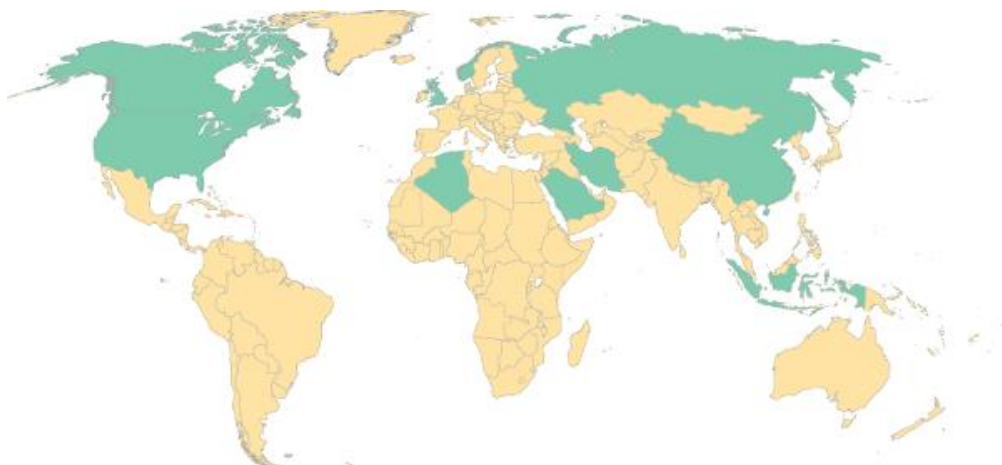
32. Укажіть приклад збільшення негативного впливу на стан довкілля.

- А збільшення частки бурого вугілля в енергетичному балансі
- Б створення ландшафтних парків у районах скупчення териконів
- В модернізація систем очищення води на підприємствах
- Г зменшення матеріаломісткості промислового виробництва

33. Регіональною міжнародною організацією є

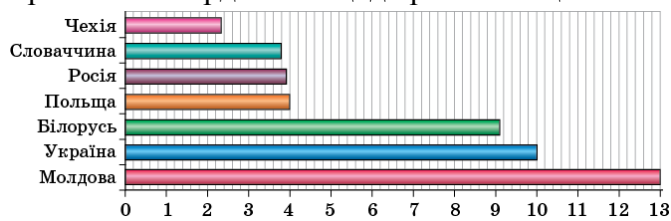
- А Міжнародний валютний фонд (МВФ).
- Б Організація країн-експортерів нафти (ОПЕК).
- В Співдружність Незалежних Держав (СНД).
- Г Світова організація торгівлі (СОТ).

34. Найбільшим показником лісистості (частки лісів у площі регіону) вирізняється
- А Західна Європа.
 - Б Південно-Західна Азія.
 - В Латинська Америка.
 - Г Східна Африка.
35. Австралія характеризується
- А високою густотою населення.
 - Б високим показником людського розвитку.
 - В високою забезпеченістю трудовими ресурсами.
 - Г високим природним приростом населення.
36. Основним чинником розміщення сучасних підприємств чорної металургії в морських портах є
- А потреба у водних ресурсах.
 - Б розвиток металомісткого суднобудування.
 - В орієнтування на імпорт руд.
 - Г перенесення брудних виробництв на узбережжя.
37. На картосхемі темним кольором виділено території десяти країн, що є лідерами за обсягом



- А видобування природного газу.
 - Б заготівлі деревини.
 - В виплавки чорнової міді.
 - Г виробництва автомобілів.
38. Прикладом районів нового освоєння є
- А захід Австралії.
 - Б схід Китаю.
 - В північ Італії.
 - Г південь Канади.

- 39.** Який чинник зумовив переміщення швейних виробництв із США та країн Західної Європи до Китаю та країн Південно-Східної й Південної Азії?
- А** сприятливіші природні умови
 - Б** нижча ціна робочої сили
 - В** вищий рівень кваліфікації працівників
 - Г** забезпеченість сучасним устаткуванням
- 40.** Визначте правильне поєднання «сільськогосподарська культура — найсприятливіші кліматичні умови для її вирощування — країна, що спеціалізується на вирощуванні цієї культури».
- А** цукрова тростина — субтропічний — Канада
 - Б** льон-довгунець — мусонний — Єгипет
 - В** бавовник — помірно континентальний — Японія
 - Г** каучуконосні дерева — екваторіальний — Індонезія
- 41.** Проаналізуйте діаграму, що відображає частку продукції сільського господарства в структурі ВВП окремих країн Центральної і Східної Європи (% , 2012 р.). Визначте правильне твердження щодо ролі й місця сільського господарства в цих країнах.



- А** у сільському господарстві виробляється половина валового внутрішнього продукту тих країн, що мають велику площу земельних угідь
 - Б** аграрне виробництво в Білорусі, Молдові й Україні забезпечує всі потреби населення й харчової промисловості
 - В** країни цього регіону за структурою валового внутрішнього продукту є не аграрно-індустріальними, а індустріально-аграрними
 - Г** сільське господарство Словаччини, Польщі та Росії має схожу спеціалізацію та експортне значення
- 42.** Ознакою переходу до сталого розвитку людства є
- А** збільшення площі деградованих земель.
 - Б** упровадження безвідходних технологій.
 - В** розвиток атомної енергетики.
 - Г** збільшення витрат коштів на озброєння держав.

У завданнях 43-48 до кожного з чотирьох рядків інформації, позначених цифрами, виберіть один правильний, на Вашу думку, варіант, позначений буквою. Поставте позначки в таблицях відповідей до завдань у *бланку А* на перетині відповідних рядків (цифри) і колонок (букви). Усі інші види Вашого запису в *бланку А* комп'ютерна програма реєструватиме як ПОМИЛКИ!

Будьте особливо уважними, заповнюючи бланк!

Не погіршуйте власноручно свого результату неправильною формою запису відповідей

43. Установіть відповідність між материком і гірською системою, що знаходиться на ньому.

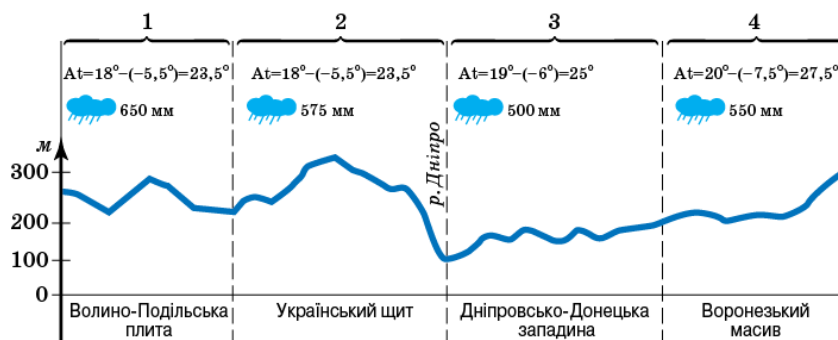
	А	Б	В	Г	Д
1					
2					
3					
4					

- 1 Африка
2 Австралія
3 Євразія
4 Північна Америка

- А Аппалачі
Б Великий Вододільний хребет
В Атлас
Г Гімалаї
Д Анди

44. Установіть назву кожного фізико-географічного краю за вказаною на схемі характеристикою.

	А	Б	В	Г	Д
1					
2					
3					
4					



- А Західноукраїнський
Б Причорноморсько-Приазовський
В Лівобережнодніпровський
Г Подільсько-Придніпровський
Д Східноукраїнський

- 45.** Установіть відповідність між містом України й галуззю транспортного машинобудування, підприємство якої розташоване в цьому місті.

	А	Б	В	Г	Д
1					
2					
3					
4					

- 1 Львів
2 Дніпропетровськ
3 Миколаїв
4 Маріуполь

- А суднобудування
Б вагонобудування
В автомобілебудування
Г літакобудування
Д ракетобудування

- 46.** Установіть відповідність між економічним районом України та галузями господарства, продукція яких домінує в структурі виробництва цього району.

	А	Б	В	Г	Д
1					
2					
3					
4					

- 1 Причорноморський
2 Подільський
3 Донецький
4 Північно-Східний

- А рекреаційні та туристичні послуги
Б сільське господарство, харчова промисловість
В чорна металургія, вугільна промисловість
Г енергетичне та авіаційне машинобудування
Д кольорова металургія, текстильна промисловість

- 47.** Установіть відповідність між країнами та річкою, по якій проходить державний кордон між ними.

	А	Б	В	Г	Д
1					
2					
3					
4					

- 1 Болгарія й Румунія
2 Україна й Молдова
3 Росія й Китай
4 Німеччина й Франція

- А Дністер
Б Амур
В Дунай
Г Меконг
Д Рейн

- 48.** Установіть відповідність між країною та видом електроенергії, що переважає в структурі її виробництва в цій країні.

	А	Б	В	Г	Д
1					
2					
3					
4					

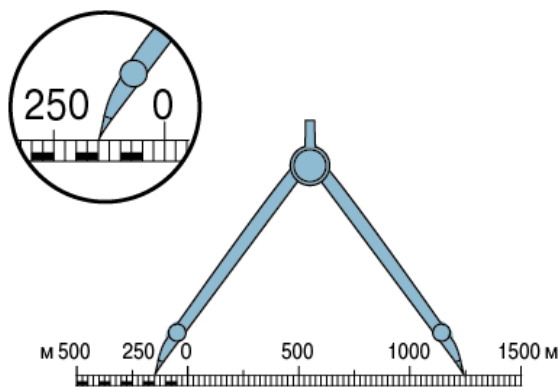
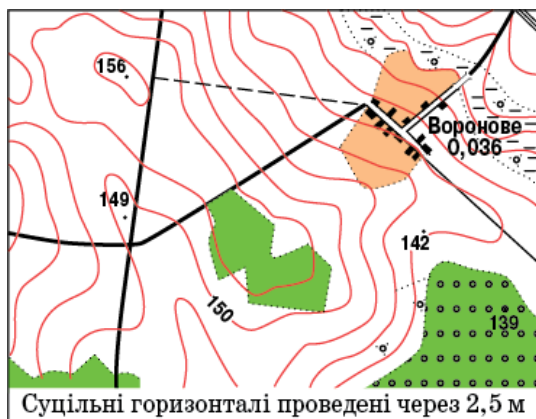
- 1** Франція
2 Індія
3 Бразилія
4 Ісландія

- А** атомна
Б гідравлічна
В геотермальна
Г сонячна
Д теплова

Розв'яжіть завдання 49-52, використовуючи наведену карту. Отримані числові значення запишіть в зошиті і бланку А. Не робіть інших записів в бланку А, оскільки комп'ютерна програма буде реєструвати їх як помилки!

Приклад запису чисел: число 1: 1 число 17: 17 число 123: 123

Будьте особливо уважні, заповнюючи бланк А!
Не погіршуйте свій результат неправильною формою запису відповідей



49. На топографічній карті відстань уздовж дороги від перехрестя доріг до околиці села Воронове виміряно циркулем і зіставлено з лінійним масштабом (див. рисунок). Визначте, якою буде ця відстань (у метрах) на місцевості.
50. Знайдіть на карті точку з максимальною абсолютною висотою на цій місцевості та зазначте цю висоту (у метрах).
51. Визначте відносну висоту (у метрах) горба з найбільшою в цій місцевості абсолютною висотою відносно поверхні болота з торф'яником.
52. Визначте азимут, за яким рухається велосипедист польовою дорогою до села Воронове, якщо він відхиляється на сім градусів від напрямку на схід.

Завдання 53 – 58 мають по сім варіантів відповідей, серед яких тільки ТРИ ПРАВИЛЬНІ. Виберіть три цифри, які позначають правильні, на Вашу думку, варіанти відповідей та запишіть їх у бланку А згідно з інструкцією. Усі інші види Вашого запису у бланку А будуть реєструватися як ПОМИЛКИ.

Будьте особливо уважні, заповнюючи бланк А!
Не погіршуйте свій результат неправильною формою запису відповідей

53. Визначте спільні риси географічного положення Південної Америки та Австралії.

- 1 лежать у східній півкулі
- 2 знаходяться на північ і південь від екватора
- 3 перетинаються південним тропіком
- 4 знаходяться в помірних широтах
- 5 омиваються водами Тихого океану
- 6 розділені Атлантичним океаном
- 7 є сусідами Африки й Антарктиди

--	--	--

54. Які характерні ознаки лісової рослинності України?

- 1 ліси вкривають понад третину всієї території держави
- 2 на рівнинній території серед хвойних порід домінує ялиця
- 3 однією з основних листяних порід в Українських Карпатах є бук європейський
- 4 панівними деревними породами в мішаних лісах Полісся є сосна й дуб
- 5 у природних зонах лісостепу й степу трапляються байрачні ліси
- 6 у Передкарпатті та на Поділлі поширені переважно березові гаї
- 7 верхній лісовий пояс у Карпатах формують граб і липа

--	--	--

55. Чому підприємства легкої промисловості розміщені в містах і селищах міського типу по всій території України?

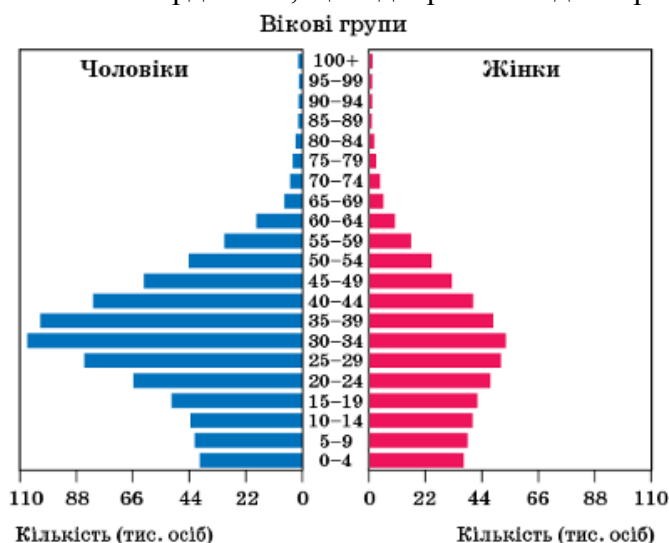
- 1 підприємства галузі використовують різні види сировини
- 2 рівномірно розташовані на території джерела постачання електроенергії
- 3 споживачами продукції підприємств цієї галузі є населення
- 4 усі міські населені пункти країни є значними транспортними вузлами
- 5 підприємства цієї галузі використовують місцеву робочу силу
- 6 виробництва галузі зорієнтовані на експорт продукції до різних країн
- 7 враховано екологічні проблеми окремих територій

--	--	--

56. Україна та Сполучені Штати Америки — це
- 1 унітарні президентські республіки.
 - 2 члени й співзасновники Організації Об'єднаних Націй (ООН).
 - 3 високоурбанізовані країни.
 - 4 постіндустріальні країни.
 - 5 основні виробники високоточного промислового устаткування.
 - 6 конкуренти на світовому ринку зерна пшениці.
 - 7 експортери технологій і капіталу.

--	--	--

57. Проаналізуйте статеву-вікову піраміду, що характеризує населення однієї з країн. Укажіть твердження, що відображають демографічну ситуацію в цій країні.



- 1 характерний другий тип відтворення населення
- 2 збільшується і народжуваність, і смертність населення
- 3 хлопчиків народжується менше, ніж дівчаток
- 4 зберігається переважання чоловіків у вікових групах 30–60 років
- 5 збільшується частка дітей у віковій структурі населення
- 6 відбувається «старіння» населення
- 7 прогнозується зменшення кількості населення працездатного віку

--	--	--

58. Визначте особливості географії паливної промисловості світу на сучасному етапі.
- 1 усі високорозвинені країни забезпечені власними ресурсами палива
 - 2 значний обсяг нафти й природного газу видобувається на шельфі Світового океану
 - 3 більшість районів видобування вугілля знаходиться в Північній півкулі
 - 4 найважливішим чинником розміщення підприємств паливної промисловості є кількість споживачів
 - 5 райони видобування та активного споживання енергоресурсів не збігаються
 - 6 у міжнародних перевезеннях палива домінує залізничний транспорт
 - 7 переважає транспортування палива з Європи й Північної Америки до країн Африки та Азії

--	--	--