

Пробне ЗНО з історії України 2015 року

Завдання 1-42 мають по чотири варіанти відповіді, серед яких лише один правильний. Виберіть правильний, на Вашу думку, варіант відповіді, позначте його в *бланку А* згідно з інструкцією. Не робіть інших позначок у *бланку А*, тому що комп'ютерна програма реєструватиме їх як помилки!

Будьте особливо уважні, заповнюючи *бланк А*!
Не погіршуйте власноручно свого результату неправильною формою запису відповідей

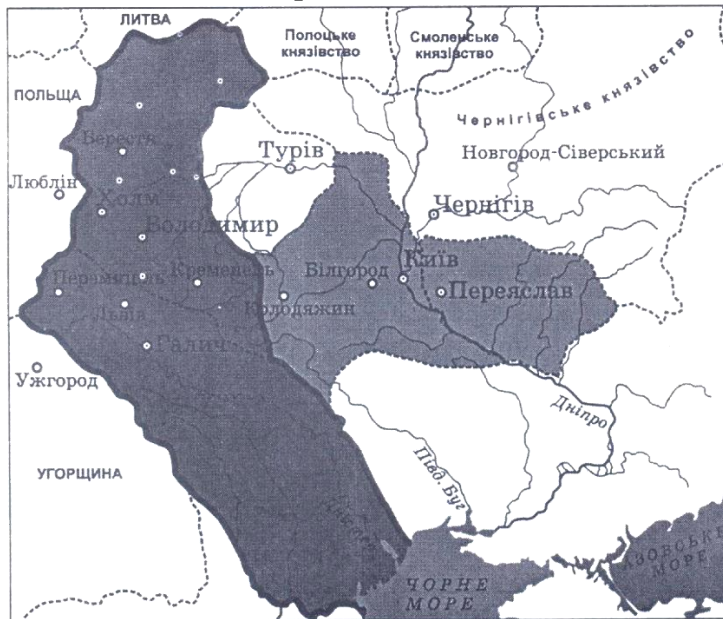
1. Залюднення території України розпочалося в період
- А палеоліту.
 - Б мезоліту.
 - В неоліту.
 - Г енеоліту.
2. Складовою частиною якої експозиції історичного музею є зображені пам'ятки?



- А «Дивосвіт Трипілля»
 - Б «Прикраси античного Причорномор'я»
 - В «Золоті скарби скіфів»
 - Г «Ювелірні шедеври Київської Русі»
3. До кого велика княгиня київська Ольга звернулась із такими словами:
«Більше вже не хочу мститися – хочу тільки взяти з вас невелику данину. Дайте мені від кожного двору по три голуби і по три горобці...»?
- А полян
 - Б древлян
 - В волинян
 - Г сіверян
4. У якому році християнство запроваджено як державну релігію Київської Русі?
- А 882 р.
 - Б 911 р.
 - В 945 р.
 - Г 988 р.

5. Яка давньоруська пам'ятка містить такі норми:
«Якщо уб'ють огнищанина, то з убивці стягується 80 гривень. За князівського старосту – 12 гривень, а за князівського рядовича – 5 гривень».
«Якщо смерд умре без дітей, то спадщина його передається князю. ...якщо боярин чи з боярської дружини, то [його] спадщина князю не йде...»?
- А «Руська правда»
Б «Слово про закон і благодать»
В «Повчання дітям»
Г «Ізборнік Святослава»

6. На картосхемі позначено Галицько-Волинську державу та князівства, залежні від неї, за правління




- А Ярослава Осмомисла.
Б Романа Мстиславовича.
В Лева Даниловича.
Г Юрія II Болеслава.
7. Яку земельну власність князі, бояри та інші представники панівної верхівки в Київській Русі могли передавати в спадок, продавати, дарувати, обмінювати?
- А посад
Б наділ
В помістя
Г вотчину
8. На фото зображено
- А ікону Успіння Богородиці маляра О. Горошковича.
Б Дорогобузьку ікону Богородиці.
В Вишгородську ікону Богородиці.
Г Холмську ікону Богородиці.



9. Які причини виникнення українського козацтва відображено в цитованому уривку «Опису України» Г.Л. де Боплана:
«Пани користуються необмеженою владою не тільки над їхнім [селян] майном, але також над їхнім життям...»?

А соціально-економічні
Б національно-релігійні
В культурно-ідеологічні
Г воєнно-стратегічні

10. На фото зображено
А Хотинську фортецю.
Б Меджибізький замок.
В Межиріцький монастир-фортецю.
Г замок у Підгірцях.



11. Хто очолив повстання, про яке йдеться в уривку з історичного джерела:
«Року 1637 козаки зібралися... і вирушили на Кумейки супроти ляхів, але під Кумейками коронний гетьман Конєцпольський, вдавшись до підступу, здолав козаків...»?

А Марко Жмайло
Б Тарас Федорович
В Іван Сулима
Г Павло Павлюк

12. Події якого періоду Національно-визвольної війни українського народу середини XVII ст. відображено на картосхемі?



А від початку війни до Зборівського договору
Б від Зборівського до Білоцерківського договору
В від Білоцерківського договору до Переяславської ради
Г від Переяславської ради до смерті Б. Хмельницького

13. На укладення якої угоди гетьман І. Самойлович відреагував словами: *«Запорозьке військо ніколи не зречеться свого давнього достояння [Правобережної України], не так воно станеться, як Москва у своїх мирових умовах із поляками постановила, – зробимо так, як нам треба!..»?*
- А Білоцерківського договору (1651 р.)
Б Віленського перемир'я (1656 р.)
В Бахчисарайського миру (1681 р.)
Г Вічного миру (1686 р.)
14. Після смерті гетьмана Д. Апостола влада в Гетьманщині перейшла до
- А Малоросійського приказу.
Б Першої Малоросійської колегії.
В Правління гетьманського уряду.
Г Другої Малоросійської колегії.
15. У 1772 р. Галичина увійшла до складу володінь австрійських Габсбургів у результаті
- А наполеонівських війн.
Б російсько-австрійської війни.
В австро-турецької війни.
Г поділу Речі Посполитої.
16. Що було характерним для економічного розвитку українських земель у складі Російської імперії в першій половині ХІХ ст.?
- А початок промислового перевороту
Б зародження кооперативного руху
В будівництво перших залізниць
Г масова трудова еміграція
17. Укажіть портрет діяча, про роль і місце в українській культурі якого йдеться в уривку з історичного джерела:
«Будучи останнім представником поезії українського бароко, він став предтечею нової української літератури, просякнувши її ідеями гуманізму та Просвітництва...».



А



Б




В



Г

18. Які зміни в становищі західноукраїнських селян відбулися внаслідок проведення аграрних реформ Марії Терезії та Йосипа II?
- А обмеження селянських повинностей
 - Б дозвіл на викуп землі продовж 49 років
 - В переведення всіх селян у ранг державних
 - Г ліквідація сервітутів
19. Укажіть історико-географічний регіон, значна територія якого була охоплена повстанням під проводом У. Кармалюка.
- А Поділля
 - Б Галичина
 - В Волинь
 - Г Слобожанщина
20. Про заснування якого навчального закладу йдеться в уривку з історичного джерела:
«Місцем його заснування було обрано місто..., де вперше засяяло й звідси розлилося по всій Давній Русі світло істинної [християнської] віри. Заснований університет, названий імператорським університетом на честь великого просвітителя Русі, удостоєний прийняттям під особливе покровительство Його імператорської величності...»?
- А Новоросійського університету
 - Б Чернівецького університету
 - В Київського університету
 - Г Харківського університету
21. Унаслідок ухвалення якого документа було вислано М. Драгоманова та П. Чубинського з України *«із заборonoю в'їзду в південні губернії та столиці, під таємний нагляд...»*?
- А «Маніфесту...» імператора Олександра II (1861 р.)
 - Б Циркуляра міністра внутрішніх справ П. Валуєва (1863 р.)
 - В Емського указу імператора Олександра II (1876 р.)
 - Г «Маніфесту...» імператора Миколи II (1905 р.)
22. У 1900 році було створено
- А Русько-українську радикальну партію.
 - Б Українську національно-демократичну партію.
 - В Революційну українську партію.
 - Г Українську народну партію.

23. Що стало причиною соціально-економічних змін, охарактеризованих в уривку з історичного джерела:
«Якщо в 40 губерніях Європейської частини Росії на 1 січня 1916 р. з общини вийшло близько 24 % господарств, то в Південній Україні цей показник становив 34,2 %, а в Правобережній Україні – 50,7 %»?
- А здійснення земської реформи
 - Б розвиток громадівського руху
 - В поширення кооперативного руху
 - Г проведення столипінської реформи
24. На фото зображено
- А В. Липинського, організатора та ідеолога Української хліборобської партії.
 - Б Є. Коновальця, голову проводу Організації українських націоналістів (ОУН).
 - В І. Боберського, голову старшини (ради) гімнастичного товариства «Сокіл-Батько».
 - Г Є. Петрушевича, президента Західноукраїнської Народної Республіки.
- 
25. У якому році в ході Першої світової війни російськими військами було захоплено Львів?
- А 1914 р.
 - Б 1915 р.
 - В 1916 р.
 - Г 1917 р.
26. Ухвалення якого Універсалу Української Центральної Ради дало поштовх до створення Генерального Секретаріату?
- А Першого
 - Б Другого
 - В Третього
 - Г Четвертого
27. Оцінку якого мирного договору наведено в уривку з історичного джерела:
«Для української держави цей мир... дуже корисний... ним українська держава визнана такими поважними суб'єктами міжнародного права, як центральні держави... цей мир досить справедливо й корисно розв'язував питання про територіальні межі...»?
- А Ризького
 - Б Брестського
 - В Сен-Жерменського
 - Г Версальського

28. Яка інституція в січні 1919 р. легітимізувала владу Директорії УНР?
А Світовий конгрес українців
Б Національний конгрес
В Хліборобський конгрес
Г Трудовий конгрес
29. Яка зміна відбулася в сільському господарстві УСРР в умовах нової економічної політики?
А дозвіл селянам на продаж сільгосппродукції
Б суцільна колективізація сільського господарства
В здійснення викупних платежів за отриману землю
Г відновлення общинного землеволодіння
30. Складовою якої політики радянської влади в УСРР були заходи, відображені в документі, уривок із якого процитовано:
«Повна рівноправність української та російської мов, усунення тих перешкод, які б затримували природний розвиток української культури... У школах з викладанням російською мовою необхідне запровадження обов'язкового вивчення української мови...»?
А «воєнного комунізму»
Б ліквідації неписьменності
В коренізації
Г пацифікації
31. Зображений плакат створено з метою пропаганди виконання одного із завдань
А першої п'ятирічки (1928-1932 рр.).
Б другої п'ятирічки (1933-1937 рр.).
В третьої п'ятирічки (1938-1942 рр.).
Г четвертої п'ятирічки (1946-1950 рр.).



Напис на плакаті: «Релігія – гальмо п'ятирічки!»

32. Уривок джерела, у якому схарактеризовано часи Голодомору: *«Урожай у нас був хороший, але радянська влада, “заготовляючи” наш хліб, до тих пір доводила свої плани й завдання до нас, до поки не залишились [ми] без фунта хліба»*, можна використати для пояснення його
А причин.
Б передумов.
В значення.
Г мети.

33. У якій країні в 1920-1930-ті рр. діяли Український вільний університет і Українська аграрна академія?
- А Польщі
 - Б Чехословаччині
 - В Румунії
 - Г Угорщини
34. 2 серпня 1940 р. – це дата включення до складу Української РСР
- А Північної й Південної Бессарабії та Північної Буковини.
 - Б Східної Галичини та Західної Волині.
 - В Закарпаття та Лемківщини.
 - Г Посяння та Підляшшя.
35. Що передбачало, окрім воєнних цілей, здійснення рейдів партизанських з'єднань на Правобережну та Західну Україну в 1943 р.?
- А мобілізацію до лав Червоної армії, збирання коштів та матеріальних цінностей для потреб фронту
 - Б постачання продовольства населенню окупованих територій, організація баз постачання для українського підпілля
 - В установлення контактів з Українською Повстанською Армією (УПА) та Армією Крайовою (АК) для спільної збройної боротьби проти окупантів
 - Г репрезентацію радянської влади, нейтралізацію впливу на цих територіях ОУН та її збройних формувань
36. Кампанія боротьби з «безрідним космополітизмом», що розгорнулася в УРСР у повоєнні роки, мала яскраво виражений
- А антиукраїнський характер.
 - Б антисемітський характер.
 - В антинатівський характер.
 - Г антицерковний характер.
37. Який процес був характерний для духовного життя в Україні в період політичної та економічної лібералізації суспільства (1953-1964 рр.)?
- А відмова від ідеологічного диктату
 - Б згортання політики русифікації
 - В припинення атеїстичної пропаганди
 - Г зародження дисидентського руху

38. На карикатурі з радянського сатиричного журналу акцентовано увагу на перевагах однієї з реформ періоду

А «повоєнної відбудови».
Б «відлиги».
В «застою».
Г «перебудови».



Напис на карикатурі:
«Раднархоз».

39. Обов'язковість носіння дітьми та молоддю УРСР зображених значків свідчить про



- А рівні фізичної підготовки.
Б заходи естетичного виховання.
В ідеологізацію суспільного життя.
Г етапи формування нової соціальної групи.
40. Як називалась парламентська опозиція у Верховній Раді УРСР (Верховній Раді України 1-го скликання, 1990-1994 рр.)?
- А «Група 239»
Б Народна Рада
В Українська Гельсінська група
Г Народний рух України

41. Хто переміг на президентських виборах в Україні, напередодні яких поширювалася зображена агітаційна листівка?



- А Л. Кравчук
Б В. Чорновіл
В Л. Кучма
Г В. Ющенко
42. Із якою метою в Україні в 1996 р. проведено грошову реформу?
- А виконати умову міжнародних фінансових організацій
Б подолати корупцію у вищих ешелонах влади
В стабілізувати й зміцнити фінансову систему
Г урівняти доходи всіх верств суспільства

У завданнях 43—48 до кожного з чотирьох рядків інформації, позначених цифрами, виберіть один правильний, на Вашу думку, варіант, позначений буквою. Поставте позначки в таблицях відповідей до завдань у *бланку А* на перетині відповідних рядків (цифри) і колонок (букви). Усі інші види Вашого запису в *бланку А* комп'ютерна програма реєструватиме як помилки!

Будьте особливо уважні, заповнюючи *бланк А*!
Не погіршуйте власноручно свого результату неправильною формою запису відповідей

43. Установіть відповідність між описаною подією та часом (століттям), коли вона відбулася.

1 «Охрестився ж він у церкві Святої Софії... у городі Корсуні. А IX ст.
По хрещенні ж привів Володимир цесарицю на обручення.
Коли ж охрестили його... передали йому віру
християнську...»

2 «Аскольд же і Дір прийшли. І вискочили всі інші вої з човнів, і Б X ст.
мовив Олег Аскольдові й Дірові: “Ви оба не є князі, ні роду
княжого. А я єсмь роду княжого”. – І тут винесли Ігоря. “А
се – син Рюриків”...»

3 «І зложив князь город – великий Київ, а в города сього В XI ст.
ворота є Золоті... Спорудив [церкву] Благовіщення. Після
цього він звів монастир святого Георгія Побідоносця...»

4 «І взяли татари місто Київ, місяця грудня в 6 день: а Дмитра Г XII ст.
воеводу привели пораненого до Батия, і не велів Батий
убивати його ради його мужності...»

	А	Б	В	Г	Д
1					
2					
3					
4					

Д XIII ст.

44. Установіть відповідність між прізвищем діяча та фактами його біографії.

1 Ф. Прокопович А співак, член Болонської філармонії
академії, автор опер «Демофонт»,
«Іфігенія»

2 І. Григорович-Барський Б скульптор, автор кам'яних статуй на
фасаді собору Св. Юра у Львові та інших
витворів

3 М. Березовський В церковний діяч, учений, поет-полеміст,
ректор Києво-Могилянської академії,
ідеолог реформ Петра I

4 Й. Пінзель Г архітектор, автор проектів культових і
громадських об'єктів, водогону Києва
Д живописець-портретист реалістичного
напрямку, керував класом портретного
живопису Петербурзької академії

	А	Б	В	Г	Д
1					
2					
3					
4					

45. Установіть поняття за його визначенням.

- | | |
|--|--|
| <p>1 суспільна течія, що виникла в 1830-х рр. на Правобережній Україні, основу якої становила молодь з польських і українських спольщених шляхетських родів, яка, усвідомивши свою відповідальність перед народом, зближувалася з ним</p> <p>2 суспільна течія, що склалася в середині XIX ст. в Галичині, Буковині та Закарпатті, представники якої виступали за національно-культурну, а згодом і державну єдність із російським народом</p> <p>3 суспільна течія, що виникла в 1860-х рр. у Галичині, представники якої спрямували свою діяльність на підвищення культурно-освітнього рівня та національної свідомості українців</p> <p>4 суспільна течія, що виникла в 1870-х рр. у Галичині, представники якої прагнули надати українському руху політичного характеру та першими поставили перед собою завдання боротьби за незалежність України</p> | <p>А «москвофіли»</p> <p>Б «радикали»</p> <p>В «хлопомани»</p> <p>Г «народовці»</p> <p>Д «самостійники»</p> |
|--|--|

	А	Б	В	Г	Д
1					
2					
3					
4					

46. Установіть відповідність між подією періоду боротьби за збереження державної незалежності України (1918-1921 рр.) та її наслідком.

- | | |
|--|--|
| <p>1 розгром Добровольчої армії генерала А. Денікіна</p> <p>2 проголошення Української Держави</p> <p>3 утворення Західноукраїнської Народної Республіки</p> <p>4 утворення Директорії УНР</p> | <p>А повалення режиму гетьмана П. Скоропадського</p> <p>Б припинення збройної боротьби за незалежність України</p> <p>В відновлення радянської влади на території України</p> <p>Г запровадження державної монополії на продаж хліба, цукру, спирту; заборона на вивіз нафти</p> <p>Д відновлення поміщицького землеволодіння</p> |
|--|--|

	А	Б	В	Г	Д
1					
2					
3					
4					

47. Установіть відповідність між пронумерованим на картосхемі адміністративним окупаційним утворенням часів Великої Вітчизняної війни (1941-1945 рр.) та його назвою й підпорядкуванням.



- А рейхскомісаріат «Україна»
Б дистрикт «Галичина» у складі Генерал-губернаторства
В військова адміністрація німецького командування
Г рейхскомісаріат «Остланд»
Д провінція «Трансністрія» під управлінням румунської адміністрації

	А	Б	В	Г	Д
1					
2					
3					
4					

48. Установіть відповідність між історичним періодом і подією.

- 1 повоєнна відбудова та розвиток (1946 – початок 1950-х рр.) А «саморозпуск» Української греко-католицької церкви (УГКЦ)
2 політична та економічна лібералізація суспільства (1953-1964 рр.) Б утворення Народного комісаріату закордонних справ УРСР
3 загострення кризи радянської системи (1965-1985 рр.) В входження Кримської області до складу УРСР
4 розпад СРСР та відродження незалежності України (1985-1991 рр.) Г прийняття останньої Конституції УРСР
Д проведення альтернативних виборів до Верховної Ради УРСР

	А	Б	В	Г	Д
1					
2					
3					
4					

У завданнях 49—52 розташуйте події в хронологічній послідовності. Поставте позначки в таблицях відповідей до завдань у *бланку А* на перетині відповідних рядків (цифри) і колонок (букви). Цифри 1 має відповідати вибрана Вами перша подія, цифри 2 – друга, цифри 3 – третя, цифри 4 – четверта. Усі інші види Вашого запису в *бланку А* комп'ютерна програма реєструватиме як помилки!

Будьте особливо уважні, заповнюючи *бланк А*!
Не погіршуйте власноручно свого результату неправильною формою запису відповідей

49. Установіть послідовність історичних явищ Стародавньої історії України.

- А Велике розселення слов'ян
- Б Велика грецька колонізація
- В розпад Великої Скіфії
- Г Велике переселення народів

	А	Б	В	Г
1				
2				
3				
4				

50. Установіть послідовність подій другої половини XVII ст.

- А Чигиринські походи турецько-татарського війська
- Б ухвалення Гадяцького договору
- В проголошення П. Дорошенка гетьманом усієї козацької України
- Г укладення Бахчисарайського мирного договору

	А	Б	В	Г
1				
2				
3				
4				

51. Установіть послідовність подій дисидентського руху в Українській РСР.

- А створення Л. Лук'яненком Української робітничо-селянської спілки
- Б початок випуску В. Чорноволом «самвидавського» журналу «Український вісник»
- В заснування М. Руденком Української громадської групи сприяння виконанню Гельсінських угод
- Г учать В. Стуса в акції протесту в кінотеатрі «Україна» проти масових арештів дисидентів

	А	Б	В	Г
1				
2				
3				
4				

52. Установіть послідовність створення радянських пропагандистських плакатів.



Подати руку допомоги братнім народам Західної України та Західної Білорусії — наш священний обов'язок!



Продовольчий податок. Віддай місту частину врожаю, рештою — розпоряджайся сам.



Ми знаходимося напередодні перетворення із країни аграрної в країну індустріальну.



На польський фронт. РКП. Міцніє комуна під роєм куль. Товариші, під гвинтівкою сили потроїмо!

	А	Б	В	Г
1				
2				
3				
4				

Завдання 53—56 мають по сім варіантів відповідей, серед яких лише три правильні. Виберіть три цифри, що позначають правильні, на Вашу думку, відповіді, та запишіть їх у бланку А згідно з інструкцією. Порядок написання цифр значення не має. Для виправлення помилково вказаної відповіді запишіть новий варіант відповіді (три цифри) у спеціально відведеному місці бланка А. Не робіть інших записів у бланку А, тому що комп'ютерна програма реєструватиме їх як помилки!

Будьте особливо уважні, заповнюючи бланк А!
Не погіршуйте власноручно свого результату неправильною формою запису відповідей

53. У яких уривках з історичних джерел ідеться про великого князя київського Святослава Ігоревича?
- 1 «...на другий день посилає до імператора просити миру за такою умовою: [русичі] повинні віддати [візантійцям] Доростол..., [візантійці] повинні дозволити привозити до себе хліб...»
 - 2 «І поставив він кумири на пагорбі, поза двором теремним: Перуна дерев'яного, – а голова його була срібна, а вус – золотий, – і Хорса, і Дажбога, і Стрибога, і Сімаргла...»
 - 3 «Хозари вийшли супроти нього з каганом, князем своїм. І зступилися війська битися, і сталася битва межі ними, і одолів він хозар, і город їхній столицю Ітіль, і город Білу Вежу взяв...»
 - 4 «Зібрав він воїнів і прийшов до Києва, і вчинив мир із братом своїм Мстиславом. І розділили вони по Дніпру Руську землю: собі узяв сю сторону, а Мстислав – ту...»
 - 5 «...побачив, що церкву завершено, він помолився Богу, говорячи: “Осе даю церкві сій, святій Богородиці, од маєтностей своїх десяту частину. Якщо се одмінить хто, – хай буде проклят”...»
 - 6 «Прийшов [князь] у Переяславець. І послав до греків послів, говорячи: “Хочу йти на вас”... І пішов до Царграда, розоряючи міста. І дали йому данину... І повернувся він у Переяславець...»
 - 7 «Тепер же поручаю я, – замість себе – стіл свій, Київ, найстаршому синові Ізяславу. А Святославу даю я Чернігів, а Всеволоду – Переяслав, а Ігорю – Володимир, а В'ячеславу – Смоленськ...»
54. Які держави були головними суперниками в боротьбі за галицько-волинську спадщину в XIV-XV ст.?
- 1 Велике князівство Литовське
 - 2 Королівство Польща
 - 3 Велике князівство Московське
 - 4 Золота Орда
 - 5 Кримське ханство
 - 6 Королівство Угорщина
 - 7 Османська імперія

55. Укажіть складові політики «воєнного комунізму», здійснюваної в Україні в 1919-1921 рр. ☐ ☐ ☐
- 1 викуп державою поміщицьких земель і передання їх селянам
 - 2 націоналізація промисловості, що охопила всі сфери виробництва
 - 3 об'єднання всіх селянських господарств у колгоспи
 - 4 розгортання мережі виробничо-збутових кооперативів і товариств
 - 5 запровадження загальної трудової повинності та продрозверстки
 - 6 заборона приватної торгівлі та згортання товарно-грошового обігу
 - 7 проведення суцільної колективізації сільського господарства
56. Які події Великої Вітчизняної війни відбулися в 1944 р.? ☐ ☐ ☐
- 1 визволення всієї території України від окупантів
 - 2 проведення депортації кримських татар
 - 3 утворення Української Повстанської Армії (УПА)
 - 4 «Битва за Дніпро»
 - 5 утворення Українського штабу партизанського руху (УШПР)
 - 6 Корсунь-Шевченківська наступальна операція
 - 7 проголошення Акта відновлення Української Держави