



# ПРОБНЕ ТЕСТУВАННЯ «ЗІГЗАГ» З ГЕОГРАФІЇ Час виконання – 120 хвилин

Тест складається з завдань різних форм. Відповіді на завдання Ви маєте позначити в бланку.

## **Інструкція щодо роботи в тестовому зошиті**

1. Правила виконання завдань зазначені перед кожною новою формою завдань.
2. Відповідайте тільки після того, як Ви уважно прочитали та зрозуміли завдання.
3. У разі необхідності використовуйте як чернетку вільні від тексту місця в зошиті.
4. Намагайтеся виконати всі завдання.

## **Інструкція щодо заповнення бланка відповідей**

1. До бланка записуйте лише правильні, на Вашу думку, відповіді.
2. Відповіді записуйте чітко, згідно з вимогами інструкції до кожної форми завдань.
3. Неправильно позначені, підчищені відповіді в бланку вважатимуться помилкою.
4. Ваш результат залежатиме від загальної кількості правильних відповідей, записаних у бланку.
5. Уважно читайте інструкції на бланку відповідей, у них позначені УСІ особливості заповнення.

**Завдання 1 - 42 мають по чотири варіанти відповіді, серед яких лише один правильний. Виберіть, на Вашу думку, правильний варіант і позначте його в бланку А.**

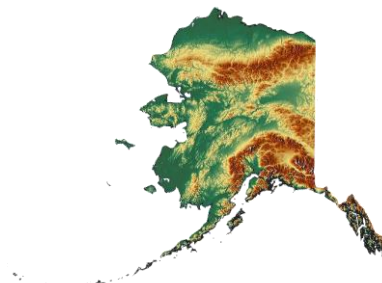
1. Позначте мандрівника, який першим з європейців проклав морський шлях до Індії.  
 А. Бартоломео Діаш  
 Б. Васко да Гама  
 В. Марко Поло  
 Г. Христофор Колумб
  
2. Позначте паралель, на якій 22 червня сонячні промені падають під прямим кутом.  
 А.  $23,5^{\circ}$  пд. ш.;  
 Б.  $66,5^{\circ}$  пд. ш.;  
 В.  $23,5^{\circ}$  пн. ш.;  
 Г.  $66,5^{\circ}$  пн. ш.
  
3. Позначте показник середньої солоності вод Світового океану.  
 А. 39 %;  
 Б. 35 %;  
 В. 25 %;  
 Г. 18 %.
  
4. Позначте правильний перелік назв материків, що утворились внаслідок розколу праматерика Лавразія.  
 А. Південна Америка, Африка, Австралія, Антарктида  
 Б. Південна Америка, Північна Америка  
 В. Північна Америка, Євразія  
 Г. Євразія, Африка
  
5. Позначте назву найбільшої за площею рівнини Землі.  
 А. Амазонська  
 Б. Західносибірська  
 В. Причорноморська  
 Г. Східноєвропейська
  
6. Позначте назву географічного об'єкту, який укритий покривними льодовиками.  
 А. Анди  
 Б. Гімалаї  
 В. Гренландія  
 Г. Кіліманджаро
  
7. Позначте правильне твердження.  
 А. На плані можна зобразити всю поверхню Землі  
 Б. На карті територія зображується зі спотвореннями  
 В. На карті територія зображується детальніше, ніж на плані  
 Г. На плані можна зобразити територію більшу, ніж на карті
  
8. Позначте причину утворення серединно-океанічних хребтів.  
 А. Вертикальний рух літосферних плит  
 Б. Часті землетруси  
 В. Зіткнення материкової і океанічної літосферних плит  
 Г. Розходження літосферних плит

9. Позначте назву мису, який є крайньою південною точкою Євразії.

- А. Челюскін
- Б. Рока
- В. Піай
- Г. Дежньова

10. Позначте назву півострова, який зображений на фрагменті карти.

- А. Флорида
- Б. Лабрадор
- В. Каліфорнія
- Г. Аляска



11. Позначте назву річки, на притоці якої розташований найвищий у світі водоспад.

- А. Амазонка
- Б. Оріноко
- В. Парана
- Г. Уругвай

12. Укажіть походження озера Танганьїка.

- А. Загатне
- Б. Карстове
- В. Льодовикове
- Г. Тектонічне

13. Укажіть назву корінного населення Австралії.

- А. Аборигени
- Б. Англійці
- В. Бушмени
- Г. Маорі

14. Позначте назву вулкану в Антарктиді.

- А. Еребус
- Б. Ключевська Сопка
- В. Льюльяйльяко
- Г. Орісаба

15. Укажіть чинник, який зумовив низьку густоту населення Центральної Африки.

- А. Непрохідні ліси
- Б. Пустелі
- В. Войовничість місцевого населення
- Г. Гірський рельєф

16. Укажіть найпотужнішу течію Світового океану, яка за рік переносить води в 200 разів більше, ніж усі річки планети.

- А. Північна Пасатна
- Б. Мусонна
- В. Південна Пасатна
- Г. Західних вітрів

17. Позначте відстань, яка характеризує протяжність України із заходу на схід.

- А. 893 км
- Б. 1316 км
- В. 2000 км
- Г. 5600 км

18. Визначити місцевий час у Харкові ( $50^0$  пн. ш.,  $36^0$  сх. д.), якщо у Львові ( $48^0$  пн. ш.,  $24^0$  сх.д.) 14 година.

- А. 14 год. 48 хв.
- Б. 14 год. 08 хв.
- В. 13 год. 52 хв.
- Г. 13 год. 12 хв.


19. Укажіть назву історико-етнографічної області України, про яку йдеться.

*Свою назву ця історична область отримала від назви давнього міста, хоча саме місто було зруйноване у XIII столітті монголо-татарами. Відомо, що з давніх-давен тут видобували сіль. У XIV столітті територія була захоплена Польщею, а у 1375 році на цих землях було засноване перше в Україні католицьке архієпископство.*

- А. Буковина
- Б. Волинь
- В. Галичина
- Г. Закарпаття

20. Позначте геологічний період, для якого найімовірнішим є зображений на малюнку ландшафт.

- А. Палеогеновий
- Б. Тріасовий
- В. Кам'яновугільний
- Г. Кембрійський



21. Укажіть назву форми рельєфу, в межах якої поширені дюни.

- А. Донецька височина
- Б. Закарпатська низовина
- В. Приазовська височина
- Г. Причорноморська низовина

22. Визначте чинник, який сприяв утворенню яружно-балкової мережі на чорноземних ґрунтах.

- А. Ґрунти безструктурні
- Б. Надмірна кількість опадів
- В. Густа річкова мережа
- Г. Лесові материнські породи

23. Позначте назву рослини, зображеної на рисунку.

- А. Лілія лісова
- Б. Нарцис вузьколистий
- В. Фіалка кримська
- Г. Цикламен Кузнецова



24. Позначте чинник, який зумовив відсутність постійних гірських льодовиків в Українських Карпатах.

- А. Кількість опадів, що випадає у цих горах, недостатня для утворення льодовиків
- Б. Гори розташовані нижче снігової лінії
- В. Надходження значної кількості сонячної радіації
- Г. Високі зимові температури біля підніжжя

25. Позначте адміністративну область, яка має найбільшу густоту населення.

- А. Чернігівська
- Б. Київська
- В. Івано-Франківська
- Г. Донецька

26. Укажіть форму організації виробництва складної продукції машинобудування, у якому беруть участь кілька підприємств.

- А. Деконцентрація
- Б. Кооперування
- В. Диверсифікація
- Г. Комбінування

27. Назвіть галузь текстильної промисловості, підприємства якої забезпечені вітчизняною сировиною.

- А. Бавовняна
- Б. Вовняна
- В. Конопледжутова
- Г. Лляна

28. Укажіть галузь машинобудування, яка розвинена на території області, що позначена на карті.

- А. Авіакосмічна промисловість
- Б. Автомобілебудування
- В. Залізничне машинобудування
- Г. Суднобудування



29. Укажіть вид транспорту, який посідає перше місце за вантажообігом.

- А. Трубопровідний
- Б. Морський
- В. Залізничний
- Г. Автомобільний

30. Укажіть назву технічної культури, що займає найбільші посівні площі.

- А. Льон-довгунець
- Б. Соняшник
- В. Цукровий буряк
- Г. Тютюн

31. Укажіть електростанцію, що працює на території області, що позначена на карті.

- А. Бурштинська ТЕС
- Б. Південноукраїнська АЕС
- В. Ладизинська ТЕС
- Г. Чорноморська ВЕС



32. Укажіть назву центру виробництва азотних добрив.

- А. Калуш
- Б. Костянтинівна
- В. Суми
- Г. Черкаси

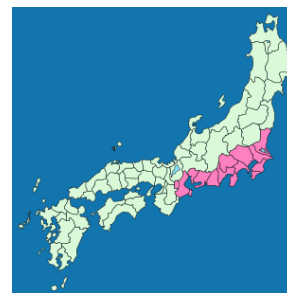
33. Укажіть назву регіону, про який йдеться.

*Країни регіону мають вихід до двох морів різних океанів. Територія здебільшого розташована в області тропічного пустельного клімату. Пращури сучасних жителів цього регіону з'явилися тут у VII ст. н. е. як завойовники.*

- А. Австралія
- Б. Південна Америка
- В. Північна Африка
- Г. Східна Азія

34. Позначте назву мегаполіса, наведеного на карті.

- А. Англійський
- Б. Босваш
- В. Прирейнський
- Г. Токайдо



35. Позначте регіон, на території якого немає жодної монархії.

- А. Північна Європа
- Б. Східна Європа
- В. Південна Європа
- Г. Західна Європа

36. Позначте чинник, який сприяв швидким темпам зростання економіки Японії.

- А. Зміна форми правління з монархічної на республіканську
- Б. Наявність значних покладів сировини

- В. Надходження після Другої світової війни значних інвестицій із країн Європи  
Г. Використання висококваліфікованої робочої сили та нових технологій

37. Позначте чинник, на який орієнтуються нафтопереробні заводи країн Південної Європи.

- А. Імпортна нафта  
Б. Дешева робоча сила – емігранти з Африки, які оселяються в основному в портах  
В. Експорт нафтопродуктів  
Г. Родовища нафти на шельфі біля берегів цих країн

38. Позначте рядок, у якому вказані країни, що спеціалізуються на вирощуванні соняшника.

- А. Німеччина, Франція  
Б. Китай, Росія  
В. Аргентина, Україна  
Г. Індонезія, Бангладеш

39. Укажіть продукцію, експортером якої є країна позначена на карті.

- А. М'ясо  
Б. Риба  
В. Цитрусові  
Г. Чай

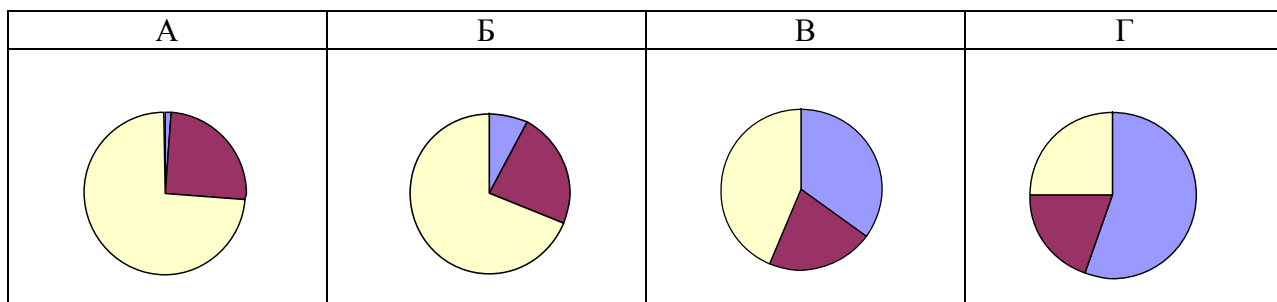


40. Укажіть корисну копалину, більша частина запасів якої зосереджена у показаному на фото регіоні.

- А. Кам'яне вугілля  
Б. Залізна руда  
В. Кам'яна сіль  
Г. Нафта



41. Укажіть діаграму, що характеризує структуру господарства Греції.



42. Позначте тип транспортної системи, для якого є характерним розвиток усіх видів транспорту, перевезення вантажів автомобільним і залізничним транспортом, а пасажирів – автомобільним і повітряним.

- А. Азіатський
- Б. Європейський
- В. Країн СНД
- Г. Північноамериканський

У завданнях 43 – 52 до кожного з чотирьох рядків інформації, позначеного цифрою, виберіть один, на Вашу думку, правильний варіант, позначений буквою. Поставте позначки в таблиці на перетині відповідних рядків (цифри) і колонок (букви). Перенесіть позначки до бланку А.

43. Установіть відповідність між кількістю опадів (на рік) та територіями земної кулі.

1. 2000-3000 мм	А. Пустеля Сахара
2. 550 мм	Б. Райони поблизу екватора
3. 150-200 мм	В. Полярні райони
4. до 100 мм	Г. Територія України
	Д. Західна Європа

	А	Б	В	Г	Д
1					
2					
3					
4					

44. Установіть відповідність між покладами корисних копалин Південної Америки та тектонічними структурами материка

1. Поклади міді	А. Осадочний чохол давньої платформи
2. Родовища нафти і газу на заході материка	Б. Виступи кристалічного фундаменту
3. Поклади залізної руди	В. Вулканічний пояс
4. Родовища нафти і газу на півночі материка	Г. Область складчастості
	Д. Передгірські прогини

	А	Б	В	Г	Д
1					
2					
3					
4					



45. Установіть відповідність між прізвищами вчених України та їх внеском у розвиток географії.

<b>1.</b> В. Бондарчук	<b>А.</b> Вивчав чорноземи, клімати земної кулі
<b>2.</b> В. Вернадський	<b>Б.</b> Автор підручника зі статистики та економічної географії
<b>3.</b> О. Воєйков	<b>В.</b> Автор підручника з основ геоморфології та Палеогеографічного атласу України
<b>4.</b> В. Докучаєв	<b>Г.</b> Займався питаннями палеогеографії, розвинув учення про біосферу
	<b>Д.</b> Вивчав чорноземи, очолював експедицію на Полтавщину

	А	Б	В	Г	Д
1					
2					
3					
4					

46. Установіть відповідність між рудними корисними копалинами та назвами басейнів (родовищ), у яких вони залягають.

<b>1.</b> Залізна руда	<b>А.</b> Нікопольський басейн
<b>2.</b> Марганцева руда	<b>Б.</b> Микитівське родовище
<b>3.</b> Самородна мідь	<b>В.</b> Рафалівське родовище
<b>4.</b> Ртутна руда	<b>Г.</b> Львівсько-Волинський басейн
	<b>Д.</b> Криворізький басейн

	А	Б	В	Г	Д
1					
2					
3					
4					

47. Установіть відповідність між назвами природоохоронних об'єктів та їх статусом.

<b>1.</b> Асканія Нова	<b>А.</b> Національний парк
<b>2.</b> Нікітський	<b>Б.</b> Природний заповідник
<b>3.</b> Розточчя	<b>В.</b> Заказник
<b>4.</b> Шацький	<b>Г.</b> Ботанічний сад
	<b>Д.</b> Біосферний заповідник

	А	Б	В	Г	Д
1					
2					
3					
4					

48. Установіть відповідність між поняттями та їх визначеннями.

<b>1.</b> Сумарна сонячна радіація	<b>А.</b> Частина сонячної радіації, яка відбивається від земної поверхні
<b>2.</b> Пряма сонячна радіація	<b>Б.</b> Частина сонячної радіації, яка при проходженні через атмосферу зазнає розсіювання молекулами атмосферних газів
<b>3.</b> Розсіяна сонячна радіація	<b>В.</b> Сонячна радіація, що надходить до Землі у вигляді паралельних променів із поверхні Сонця
<b>4.</b> Поглинута сонячна радіація	<b>Г.</b> Частина сонячної радіації, яка вбирається земною поверхнею
	<b>Д.</b> Частина сонячної радіації, яка досягає горизонтальної поверхні

	А	Б	В	Г	Д
1					
2					
3					
4					

49. Установіть відповідність між назвами сільськогосподарських культур та районами їх вирощування.

<b>1.</b> Виноград	<b>А.</b> Північний і центральний степ, південний лісостеп, Закарпаття
<b>2.</b> Картопля	<b>Б.</b> Лісостеп, південь Полісся і північ Степу
<b>3.</b> Кукурудза	<b>В.</b> Крим, Придністров'я, Закарпаття, північний схід Лісостепу
<b>4.</b> Цукровий буряк	<b>Г.</b> Полісся, Передкарпаття, Лісостеп
	<b>Д.</b> Крим, південний Степ, Закарпаття

	А	Б	В	Г	Д
1					
2					
3					
4					

50. Установіть відповідність між назвами економічних районів України та областями, що входять до їх складу.

1. Донецький	А. Черкаська, Кіровоградська
2. Подільський	Б. Вінницька, Тернопільська, Хмельницька
3. Придніпровський	В. Донецька, Луганська
4. Центральний	Г. Дніпропетровська, Запорізька
	Д. Київська, Чернігівська, Житомирська

	А	Б	В	Г	Д
1					
2					
3					
4					

51. Установіть відповідність між назвами країн та особливостями їх паливно-енергетичного комплексу.

1. Саудівська Аравія	А. Країна забезпечена всіма видами палива, але ТЕС працюють в основному на низькоякісному вугіллі
2. Росія	Б. Більша частина енергії виробляється на АЕС
3. США	В. Країна є основним експортером нафти
4. Франція	Г. Понад половини виробництва електроенергії припадає на ГЕС
	Д. Країна є основним імпортером нафти

	А	Б	В	Г	Д
1					
2					
3					
4					

52. Установіть відповідність між державами та їх столицями.

1. Канада	А. Берлін
2. Китай	Б. Бонн
3. Німеччина	В. Оттава
4. Японія	Г. Пекін
	Д. Токіо

	А	Б	В	Г	Д
1					
2					
3					
4					

У завданнях 53 – 58 розташуйте запропоновані факти у правильній послідовності. Поставте позначки в бланку на перетині відповідних колонок і рядків. Цифрі 1 має відповідати перший обраний вами факт, цифрі 2 – другий і так далі. Перенесіть позначки до бланку А.

53. Установіть послідовність масштабів карт і планів від найдрібнішого.

- А. 1:200 000
- Б. в 1 см – 25 км
- В. 1:500 000
- Г. в 1 см – 500 м

	А	Б	В	Г
1				
2				
3				
4				

54. Розташуйте назви річок у порядку зменшення їх довжин.

- А. Амазонка
- Б. Волга
- В. Дунай
- Г. Ніл

	А	Б	В	Г
1				
2				
3				
4				

55. Розташуйте типи ґрунтів України у напрямку із півночі на південь.

- А. Каштанові
- Б. Коричневі
- В. Сірі лісові
- Г. Чорноземи південні

	А	Б	В	Г
1				
2				
3				
4				

56. Розташуйте назви областей України в напрямку із заходу на схід.

- А. Вінницька
- Б. Луганська
- В. Львівська
- Г. Полтавська

	А	Б	В	Г
1				
2				
3				
4				

57. Розташуйте назви країн у порядку зменшення обсягів виробництва автомобілів.

- А. Німеччина
- Б. Південна Корея
- В. Франція
- Г. Японія

	А	Б	В	Г
1				
2				
3				
4				

58. Розташуйте країни в порядку зменшення їх площ.

- А. Канада
- Б. Китай
- В. Росія
- Г. США

	А	Б	В	Г
1				
2				
3				
4				