



## ТЕСТ ІЗ ГЕОГРАФІЇ

Час виконання – 150 хвилин

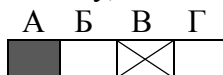
Тест складається з 56 завдань різних форм. Відповіді на завдання Ви маєте позначити в бланку *А*.

### Інструкція щодо роботи в тестовому зошиті

1. Правила виконання завдань зазначені перед кожною новою формою завдань.
2. Відповідайте тільки після того, як Ви уважно прочитали та зрозуміли завдання.
3. У разі необхідності використовуйте як чернетку вільні від тексту місця в зошиті.
4. Намагайтеся виконати всі завдання.

### Інструкція щодо заповнення бланка відповідей *А*

1. До бланка *А* записуйте лише правильні, на Вашу думку, відповіді.
2. Відповіді вписуйте чітко, згідно з вимогами інструкції до кожної форми завдань.
3. Неправильно позначені, підчищені відповіді в бланку *А* вважатимуться помилкою.
4. Якщо Ви позначили відповідь 1 – 48 неправильно, можете виправити її, замалювавши попередню позначку та поставивши нову, як показано на зразку:



5. Якщо Ви записали відповідь до котрогось із завдань 49 – 56 неправильно, то можете виправити її, записавши новий варіант відповіді в спеціально відведеному місці бланку *А*.
6. Ваш результат залежатиме від загальної кількості правильних відповідей, зазначених у бланку *А*.

**Подбай про знання сьогодні!**

Товариство з обмеженою відповідальністю «РЕПЕТИТОРСЬКА ГРУПА ЗІГЗАГ»  
2013 р.

Завдання 1-42 мають по чотири варіанти відповіді, серед яких лише один правильний. Виберіть правильний, на Вашу думку, варіант відповіді й позначте його в бланку А згідно з інструкцією. Не робіть інших позначок у бланку А, тому що вони будуть реєструватися як помилки.

Будьте особливо уважні, заповнюючи бланк А!  
Не погіршуйте свій результат неправильною формою запису відповідей

1. Визначте дослідника, маршрут експедиції якого представлено на карті

А Васко да Гама  
Б Френсіс Дрейк  
В Бартоломеу Діаш  
Г Джеймс Кук

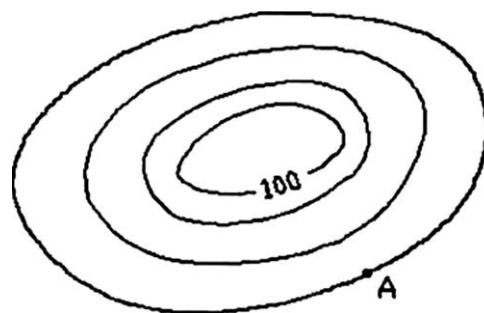


2. Укажіть числовий масштаб карти, якщо 1 см на ній відповідає 100 м на місцевості

А 1: 1000  
Б 1: 100  
В 1: 100 000  
Г 1: 10 000

3. За малюнком визначте висоту точки А, якщо відомо, що суцільні горизонталі на карті проведені через 1 м

А 95 м  
Б 103 м  
В 97 м  
Г 98 м



4. Укажіть наслідок руху Землі навколо своєї осі

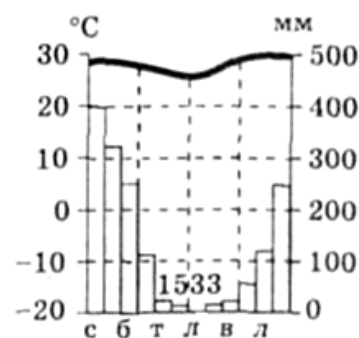
А добовий ритм  
Б земне тяжіння  
В річний ритм  
Г зміна пір року

5. Укажіть льодовикову форму рельєфу

А бархан  
Б яр  
В бенч  
Г цирк

6. Визначте тип клімату Південної півкулі, кліматограма якого представлена на малюнку

А екваторіальний  
Б субекваторіальний  
В помірний мусонний  
Г субтропічний з рівномірним зволоженням



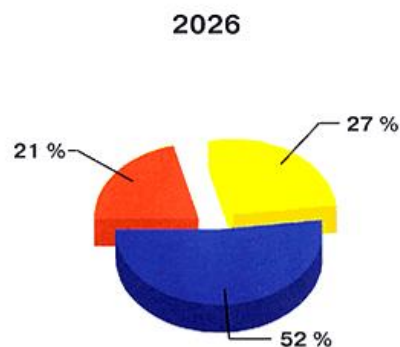
7. Оберіть теплу течію

А Перуанська  
Б Каліфорнійська  
В Східноавстралійська  
Г Лабрадорська

8. Укажіть другий за площею океан Землі  
А Тихий  
Б Атлантичний  
В Індійський  
Г Північний Льодовитий
9. Укажіть вулкан, що має таку ж назву, як і одна з країн Африки  
А Кіліманджаро  
Б Карісімбі  
В Камерун  
Г Телекі
10. Визначте відносну висоту між найвищою та найнижчою точками Австралії  
А 5040 м  
Б 3227 м  
В 2246 м  
Г 4542 м
11. Назвіть найвищу точку гір Аппалачі  
А г. Мітчелл  
Б г. Мак-Кінлі  
В г. Уїтні  
Г г. Робсон
12. Укажіть, яке озеро показане на фрагменті карти  
А Гурон  
Б Маракайбо  
В Поопо  
Г Вікторія
13. Укажіть назву протоки, яка розділяє острови Хоккайдо та Сахалін  
А Баб-ель-Мандебська  
Б Малаккська  
В Лаперуза  
Г Босфор
14. Оберіть країну, яка не має сухопутного кордону з Україною  
А Словаччина  
Б Польща  
В Угорщина  
Г Болгарія
15. Укажіть найвищу точку рівнинної частини України  
А г. Могила-Мечетна  
Б г. Бельмак-Могила  
В г. Берда  
Г г. Камула
16. Оберіть форму рельєфу, якій відповідає Дніпровсько-Донецька западина  
А Придніпровська височина  
Б Приазовська височина  
В Придніпровська низовина  
Г Донецька височина

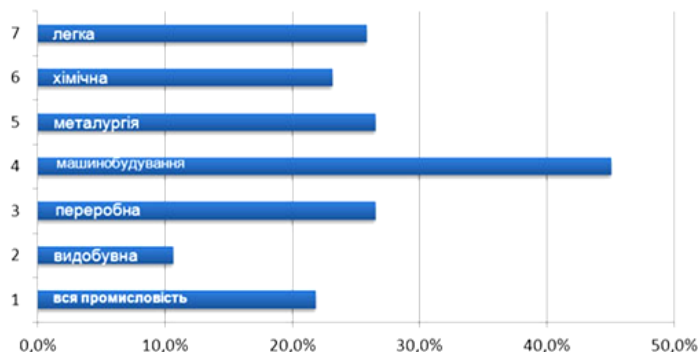


17. Визначте ухил річки Південний Буг, якщо відомо, що вона бере початок на висоті 321 м та має довжину 806 км  
А 40 см/км  
Б 40 м/км  
В 2,5 км/м  
Г 2500 км/см
18. Укажіть міста, по лінії яких взимку проходить смуга високого тиску – так звана, вісь Воєйкова  
А Херсон-Павлоград-Ізюм  
Б Одеса-Кіровоград-Суми  
В Миколаїв-Запоріжжя-Донецьк  
Г Балта-Дніпропетровськ-Луганськ
19. Визначте серед названих регіонів України той, що є найбагатшим на лісові ресурси  
А Полісся  
Б Крим  
В Поділля  
Г Причорномор'я
20. Укажіть ґрунти, які поширені на Південному березі Криму  
А коричневі  
Б каштанові  
В лучно-чорноземні  
Г бурі гірськолісові
21. Укажіть біосферний заповідник  
А Дніпровсько-Орільський  
Б Чорноморський  
В Деснянсько-Старогутський  
Г Яворівський
22. Визначте, що НЕ було причиною чорних бур у 1960-х рр. на півдні України  
А посушливий клімат  
Б перетворення степів на пасовища  
В збільшення площ орних земель  
Г мала родючість ґрунтів
23. На малюнку представлена діаграма вікового складу населення України у 2026 році (за прогнозами ООН). Вкажіть, якій віковій групі відповідає сектор «27 %»  
А населення молодше 20 років  
Б населення старше 60 років  
В населення віком 20-59 років  
Г населення молодше 7 років
24. Визначте коефіцієнт смертності в місті А, якщо протягом року в ньому народилося 760 осіб, природний приріст складає 4,2 ‰, а кількість населення становить 53730 осіб  
А 14,1 ‰  
Б 9,9 ‰  
В 12 ‰  
Г 11 ‰



25. Укажіть назву економічного району України, в якому розташована Хмельницька АЕС  
А Столичний  
Б Подільський  
В Центральний  
Г Придніпровський
26. Оберіть центр виробництва вогнетривів  
А Луганськ  
Б Алчевськ  
В Стаханов  
Г Горлівка
27. Укажіть район машинобудування України, який спеціалізується на електрохімічному, сільськогосподарському, автомобільному і важкому машинобудуванні  
А Донбас  
Б Харківський  
В Придніпровський  
Г Подільський
28. Укажіть фактор, на який зорієнтоване виробництво соди в Україні  
А сировинний  
Б споживчий  
В енергетичний  
Г екологічний
29. Визначте, яка головна причина того, що найбільші обсяги скорочення виробництва продукції серед галузей промисловості характерні саме для машинобудування

**Скорочення обсягів промислового  
виробництва за галузями**



- А машинобудування є найбільш енергомісткою галуззю промисловості  
Б обсяги виробництва продукції машинобудування скорочуються в усьому світі, а не лише в Україні  
В для галузі характерні структурні проблеми, а саме висока концентрація галузей важкого машинобудування, які не користуються значним попитом на зовнішньому ринку  
Г машинобудування є галуззю «авангардної трійки»
30. Укажіть назву економічного району України, в якому функціонує Краматорсько-Слов'янський промисловий вузол  
А Північно-Східний  
Б Донецький  
В Центральний  
Г Придніпровський

31. Укажіть назву технічної культури, яку вирощують на півночі України
- А цукровий буряк
  - Б жито
  - В льон
  - Г люпин

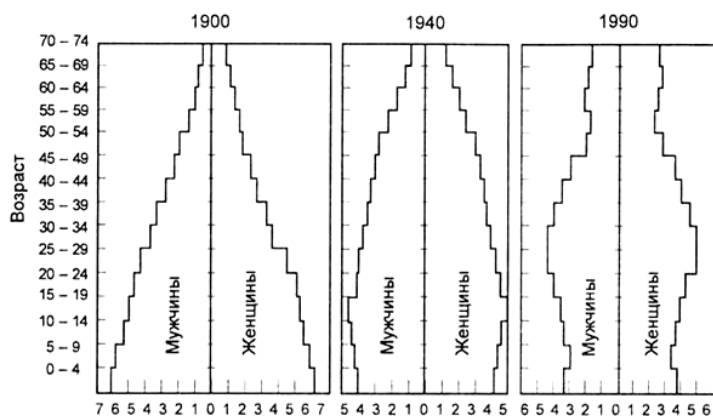
32. Укажіть рік виведення з експлуатації Чорнобильської АЕС
- А 1986
  - Б 1991
  - В 2000
  - Г 2004

33. Укажіть назву країни, виділеної на фрагменті карти
- А Норвегія
  - Б Ісландія
  - В Ірландія
  - Г Швеція



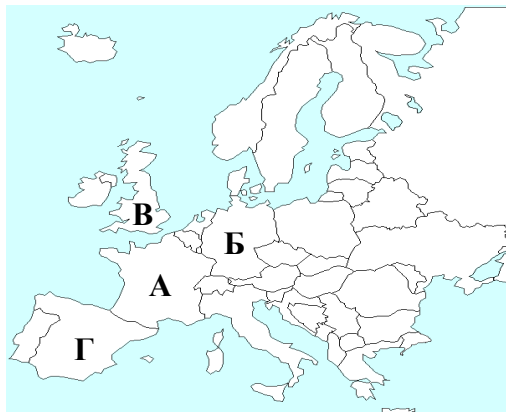
34. Укажіть назву столиці
- А Детройт
  - Б Канберра
  - В Кембридж
  - Г Суец

35. На малюнку представлені статеві-вікові піраміди США для 1900, 1940, 1990 років. Укажіть серед запропонованих демографічний процес, який НЕ був характерний для країни за цей період



- А збільшення частки людей старшого віку
  - Б старіння нації
  - В зменшення частки дітей у структурі населення
  - Г різке збільшення частки чоловіків у статевій структурі населення.
36. Укажіть назву найбільшого кам'яновугільного басейну
- А Аппалацький
  - Б Кузнецький
  - В Рурський
  - Г Тунгуський

37. Укажіть назву країни, що посідає перше місце за кількістю туристів, які її відвідують  
А Іспанія  
Б Італія  
В Франція  
Г США
38. Визначте правильне твердження щодо руху товарів у світовому господарстві  
А країни Північної Америки є одними з найбільших експортерів продуктів харчування  
Б найбільший обсяг експортно-імпортних операцій припадає на країни Західної Європи  
В Східна Азія є найбільшим імпортером наукоємної продукції  
Г найбільші обсяги товарообміну припадають на країни Північної Америки та Африки
39. Оберіть місто, в якому розташована штаб-квартира ЮНЕСКО  
А Париж  
Б Берлін  
В Відень  
Г Женева
40. Укажіть назву країни, яка забезпечена майже всіма видами мінеральної сировини  
А Південна Африка  
Б Росія  
В Саудівська Аравія  
Г Франція
41. Оберіть з позначених на карті країну, яка володіє значними покладами бурого вугілля



42. Укажіть правильну відповідність «держава-столиця»  
А Індонезія-Джакарта  
Б Індія-Шанхай  
В Пакистан-Кабул  
Г Туреччина-Стамбул

У завданнях 43–48 до кожного з чотирьох рядків інформації, позначеного цифрою, виберіть один, на Вашу думку, правильний варіант, позначений буквою. Поставте позначення у таблицях відповідей до завдань у *бланку А* на перетині відповідних рядків (цифри) та колонок (букви). Усі інші види Вашого запису у *бланку А* будуть реєструватися як помилки.

Будьте особливо уважні, заповнюючи *бланк А*!  
Не погіршуйте свій результат неправильною формою запису відповідей

43. Встановіть відповідність між назвами зовнішніх процесів та їх характеристиками

1	робота текучих поверхневих вод	А	утворення еолових форм рельєфу	1	А	Б	В	Г	Д
2	робота вітру	Б	розчинення гірських порід, утворення порожнин	2					
3	робота підземних вод	В	утворення долин виорювання, окатаних валунів	3					
4	робота льодовиків	Г	руйнування гірських порід під впливом коливань температури повітря	4					
		Д	руйнування ґрунтів і гірських порід, утворення ярів						

44. Встановіть відповідність між типом озерної улоговини та прикладами озер

1	тектонічна	А	Маракайбо	1	А	Б	В	Г	Д
2	залишкова	Б	Онезьке	2					
3	лиманна	В	Ньяса	3					
4	загатна	Г	Ейр	4					
		Д	Синевір						

45. Встановіть відповідність між регіонами Євразії та корисними копалинами, на які вони багаті

1	Перська затока	А	калійна сіль	1	А	Б	В	Г	Д
2	Острови Шпіцберген	Б	нафта	2					
3	Південно-Східна Азія	В	кам'яне вугілля	3					
4	Мертве море	Г	олов'яні руди	4					
		Д	коштовне каміння						

46. Встановіть відповідність між формами рельєфу та їх походженням

1	зсуви	А	водно-ерозійні	1	А	Б	В	Г	Д
2	ози	Б	карстові	2					
3	печери	В	гравітаційні	3					
4	терикони	Г	льодовикові	4					
		Д	антропогенні						

47. Встановіть відповідність між проблемами та шляхами їх вирішення в Україні

1	демографічна	А	структурна перебудова господарства	1	А	Б	В	Г	Д
2	економічна	Б	децентралізація влади	2					
3	рівномірного розвитку територій	В	багаторазове використання сировини	3					
4	сировинного забезпечення	Г	зростання рівня соціального забезпечення	4					
		Д	боротьба зі злочинністю та корупцією						



48. Встановіть відповідність між назвами країни та продукцією, на виробництві яких вони спеціалізуються

1 Італія

2 Німеччина

3 Польща

4 Франція

А зерно, цукор, картопля

Б сир, оливкова олія, вино

В сир, м'ясні вироби, пиво

Г оливкова олія, томати, апельсини

Д сир, виноград, коньяк

	А	Б	В	Г	Д
1					
2					
3					
4					

Завдання 49–54 мають по сім варіантів відповідей, серед яких тільки три правильні. Виберіть три цифри, які позначають правильні, на Вашу думку, варіанти відповідей та запишіть їх у *бланку А* згідно з інструкцією. Порядок написання цифр значення не має. Усі інші види Вашого запису у *бланку А* будуть реєструватися як помилки.

Будьте особливо уважні, заповнюючи *бланк А*!  
Не погіршуйте свій результат неправильною формою запису відповідей

49. Укажіть річки, які належать до басейну Індійського океану

1 Конго

2 Меконг

3 Замбезі

4 Інд

5 Тигр

6 Меконг

7 Окованго

50. Оберіть основні закономірності розвитку географічної оболонки

1 дзеркальність

2 динамічність

3 ритмічність

4 багатоядерність

5 широтна зональність та висотна поясність

6 цілісність

7 континуальність

51. Оберіть гірські вершини, що знаходяться в межах Євразії

1 г. Белуха

2 г. Аконкагуа

3 г. Мітчелл

4 г. Монблан

5 г. Камерун

6 пік Перемоги

7 г. Косцюшко

52. Укажіть три центри виробництва азотних добрив

1 Запоріжжя

2 Черкаси

3 Суми

4 Рівне

5 Горлівка

6 Калуш

7 Армянськ

53. Оберіть три області, що входять до складу Північно-Східного економічного району

- 1 Донецька
- 2 Чернігівська
- 3 Харківська
- 4 Сумська
- 5 Запорізька
- 6 Полтавська
- 7 Дніпропетровська

☐ ☐ ☐

54. Укажіть три правильні твердження стосовно промисловості Японії

- 1 більшість промислових центрів країни розташовані на території Тихоокеанського поясу
- 2 до периферійної зони відносять весь острів Хонсю
- 3 найбільша частина підприємств зосереджена в районі мегалополіса Токайдо
- 4 в електроенергетиці країни домінує гідроенергетика
- 5 більшість великих металургійних підприємств розміщується в центральних районах
- 6 лідером японської індустрії є машинобудування, насамперед наукоємне
- 7 головні підприємства суднобудування розташовані віддалено від узбережжя


☐ ☐ ☐

Розв'яжіть завдання 55 – 56. Отримані числові відповіді запишіть у зошиті та бланку А згідно з інструкцією. Усі інші види Вашого запису у бланку А будуть реєструватися як помилки.

Будьте особливо уважні, заповнюючи бланк А!  
Не погіршуйте свій результат неправильною формою запису відповідей

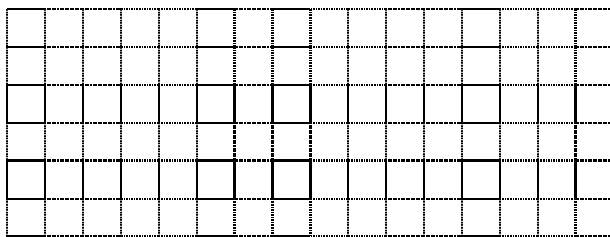
Зразок запису чисел: число 1: ☐☐☐☐1 число 17: ☐☐☐17 число 123: ☐☐123

55. Розрахуйте площу саду (у га), якщо на карті масштабу 1:50 000 він займає площу 2,4 см<sup>2</sup>.



Відповідь ☐☐☐☐

56. У країні з населенням 10 млн осіб і територією 60 тис.км<sup>2</sup> міське населення становить 70%. Визначте густоту сільського населення (осіб /км<sup>2</sup>) у цій країні.



Відповідь ☐☐☐☐

Кінець тестового зошита