



## ТЕСТ ІЗ ГЕОГРАФІЇ

Час виконання – 150 хвилин

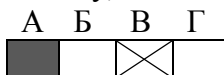
Тест складається з 58 завдань різних форм. Відповіді на завдання Ви маєте позначити в бланку *А*.

### Інструкція щодо роботи в тестовому зошиті

1. Правила виконання завдань зазначені перед кожною новою формою завдань.
2. Відповідайте тільки після того, як Ви уважно прочитали та зрозуміли завдання.
3. У разі необхідності використовуйте як чернетку вільні від тексту місця в зошиті.
4. Намагайтеся виконати всі завдання.

### Інструкція щодо заповнення бланка відповідей *А*

1. До бланка *А* записуйте лише правильні, на Вашу думку, відповіді.
2. Відповіді вписуйте чітко, згідно з вимогами інструкції до кожної форми завдань.
3. Неправильно позначені, підчищені відповіді в бланку *А* вважатимуться помилкою.
4. Якщо Ви позначили відповідь 1 – 42 неправильно, можете виправити її, замалювавши попередню позначку та поставивши нову, як показано на зразку:



5. Якщо Ви записали відповідь до котрогось із завдань 43 – 58 неправильно, то можете виправити її, записавши новий варіант відповіді в спеціально відведеному місці бланку *А*.
6. Ваш результат залежатиме від загальної кількості правильних відповідей, зазначених у бланку *А*.

**Подбай про знання сьогодні!**

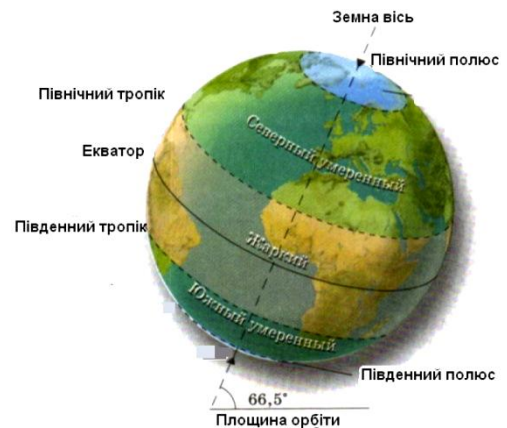
Товариство з обмеженою відповідальністю «РЕПЕТИТОРСЬКА ГРУПА ЗІГЗАГ»  
2014 р.

Завдання 1-42 мають по чотири варіанти відповіді, серед яких лише один правильний. Виберіть правильний, на Вашу думку, варіант відповіді й позначте його в бланку А згідно з інструкцією. Не робіть інших позначок у бланку А, тому що вони будуть реєструватися як ПОМИЛКИ.

Будьте особливо уважні, заповнюючи бланк А!  
Не погіршуйте свій результат неправильною формою запису відповідей

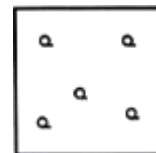
1. Укажіть географічний об'єкт, який європейці відкрили раніше за інші
- А острів Тасманія
  - Б мис Доброї Надії
  - В Магелланова протока
  - Г острів Куба

2. Чому дорівнює широта Північного та Південного тропіків?
- А  $0^\circ$
  - Б  $23^\circ 27'$
  - В  $90^\circ$
  - Г  $66^\circ 33'$

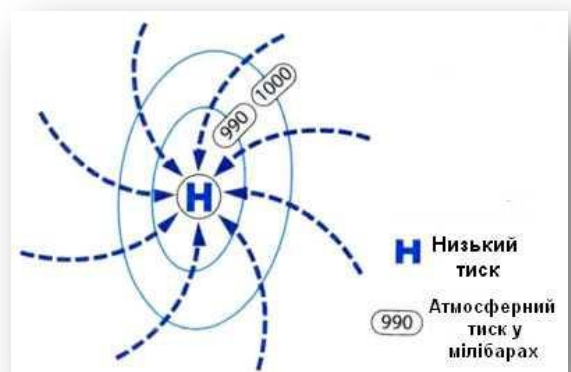


3. Укажіть картографічну проекцію, в якій найчастіше укладають карти Арктики та Антарктиди
- А циліндрична
  - Б конічна
  - В азимутальна пряма
  - Г азимутальна поперечна

4. Наведеним умовним знаком позначають
- А луки
  - Б фруктовий сад
  - В рідколісся
  - Г вирубаний ліс

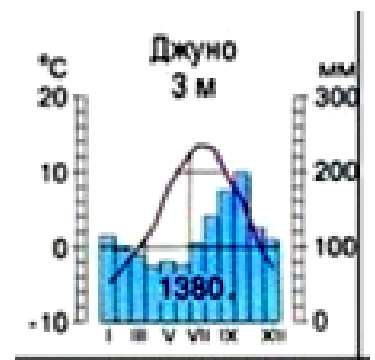


5. Результатом зіткнення материкових літосферних плит є утворення
- А гірських систем
  - Б глибоководних жолобів
  - В рівнин
  - Г тектонічних озер



6. Укажіть атмосферне утворення, представлене на рисунку
- А антициклон Північної півкулі
  - Б антициклон Південної півкулі
  - В циклон Північної півкулі
  - Г циклон Південної півкулі
7. Укажіть найбільшу у світі затоку
- А Мексиканська
  - Б Гвінейська
  - В Гудзонова
  - Г Бенгальська

8. Укажіть ґрунти, які характеризуються низькою родючістю, значним вмістом заліза та алюмінію.  
А чорноземи  
Б дерново-підзолисті  
В червоно-жовті фералітні  
Г тундрово-глеєві
9. Обчисліть температуру на вершині вулкану Кіліманджаро, якщо на рівні моря вона складає  $+24^{\circ}\text{C}$ .  
А  $-11,4^{\circ}\text{C}$   
Б  $11,4^{\circ}\text{C}$   
В  $2,4^{\circ}\text{C}$   
Г  $-2,4^{\circ}\text{C}$
10. Укажіть кліматичний пояс, в якому розташована більша частина Австралії  
А екваторіальний  
Б субекваторіальний  
В тропічний  
Г субтропічний
11. Укажіть середню висоту Антарктиди над рівнем моря  
А 620 м  
Б 2040 м  
В 1155 м  
Г 3625 м
12. Укажіть плоскогір'я, на якому знаходиться найвищий водоспад світу  
А Бразильське  
Б Декан  
В Гвіанське  
Г Східноафриканське
13. Укажіть річку басейну Атлантичного океану  
А Маккензі  
Б Колумбія  
В Міссісіпі  
Г Колорадо
14. Оберіть тип клімату, якому відповідає подана кліматограма  
А екваторіальний  
Б субтропічний середземноморський  
В помірний морський  
Г помірно континентальний
15. Укажіть гори герцинської складчастості  
А Альпи  
Б Уральські гори  
В Гімалаї  
Г Карпати
16. Оберіть океан, в якому протікає Сомалійська течія  
А Тихий  
Б Атлантичний  
В Індійський  
Г Північний Льодовитий



17. Укажіть країну, з якою Україна має найкоротший державний кордон  
А Молдова  
Б Румунія  
В Словаччина  
Г Польща
18. Укажіть тектонічну структуру, в межах якої протікає річка Збруч  
А Український щит  
Б Волино-Подільська плита  
В Дніпровсько-Донецька западина  
Г Донецька складчаста споруда
19. Прилуцьке, Долинське, Східносаратське, Качанівське – це назви родовищ  
А бокситів  
Б бурого вугілля  
В сірки  
Г нафти
20. Одне із чудес України – печера Мармурова у Криму – наслідок  
А карсту  
Б фізичного вивітрювання  
В дії вітру  
Г дії льодовика
21. Укажіть річку, яка є притокою Дністра  
А Псел  
Б Десна  
В Стрий  
Г Самара
22. Укажіть національний природний парк, який на карті позначено цифрою 1.  
А Яворівський  
Б Ужанський  
В Святі Гори  
Г Великий Луг



23. Укажіть природну зону, в межах якої знаходиться місто Черкаси  
А Полісся  
Б Степ  
В Лісостеп  
Г Широколистяні ліси

24. Укажіть рік, в якому до України було приєднано адміністративну одиницю, виділену на карті жовтим кольором

- А 1939
- Б 1940
- В 1945
- Г 1954



25. Укажіть область, в якій густота населення вища за середню по країні

- А Херсонська
- Б Волинська
- В Львівська
- Г Сумська

26. Виділена на карті область є районом компактного проживання

- А греків
- Б росіян
- В угорців
- Г євреїв

27. Укажіть тип, до якого належать електростанції «Охотникове» та «Перове».

- А атомні
- Б вітрові
- В гідроелектростанції
- Г сонячні



28. Укажіть місто, в якому працює єдиний в Україні глиноземний завод

- А Донецьк
- Б Запоріжжя
- В Миколаїв
- Г Одеса

29. Найтипівіша форма організації виробництва для металургійних підприємств – це

- А подетальна спеціалізація
- Б комбінування
- В кооперування
- Г концентрація

30. Розшифруйте першу літеру в аббревіатурі підприємства «ЛАЗ»

- А Луцький
- Б Луганський
- В Лозівський
- Г Львівський

31. Укажіть центр виробництва фосфатних добрив.

- А Харків
- Б Одеса
- В Івано-Франківськ
- Г Севастополь

32. Укажіть фактор, на який орієнтуються підприємства меблевої промисловості
- А екологічний
  - Б споживацький
  - В енергетичний
  - Г трудовий

33. Який економічний район представлено на поданій схемі?
- А Столичний
  - Б Донецький
  - В Північно-Східний
  - Г Центральний



34. Укажіть столицю Швейцарії
- А Відень
  - Б Лозанна
  - В Берн
  - Г Страсбург

35. На схемі стрілками показано основні світові шляхи транспортування



- А залізних руд
  - Б алюмінієвих руд
  - В мідних руд
  - Г нікелевих руд
36. Родина Петренків зацікавилася синтоїзмом та хоче дізнатися більше про цей релігійний напрям. До якої країни Ви порадили б їм вирушити у подорож?
- А Індонезія
  - Б Малі
  - В Індія
  - Г Японія
37. Укажіть галузь міжнародної спеціалізації «азіатських тигрів»
- А харчова промисловість
  - Б важке машинобудування
  - В електронна промисловість
  - Г гірничовидобувна промисловість



38. Яка країна є світовим лідером за виробництвом паперу на душу населення?

- А Фінляндія
- Б Канада
- В Китай
- Г Франція

39. Міжнародний аеропорт Хітроу розташований у

- А Нью-Йорку
- Б Лондоні
- В Парижі
- Г Мельбурні

40. Оберіть країну, для якої особливо гострою є продовольча проблема

- А Нігер
- Б Білорусь
- В Південна Африка
- Г Казахстан

41. Оберіть країну, в якій знаходиться зображене на рисунку «диво світу»



- А Китай
- Б Перу
- В Індія
- Г Саудівська Аравія

42. Укажіть країну, яка розташована в усіх чотирьох півкулях

- А Єгипет
- Б Кірибаті
- В Росія
- Г Бразилія

У завданнях 43–48 до кожного з чотирьох рядків інформації, позначеного цифрою, виберіть один, на Вашу думку, правильний варіант, позначений буквою. Поставте позначення у таблицях відповідей до завдань у *бланку А* на перетині відповідних рядків (цифри) та колонок (букви). Усі інші види Вашого запису у *бланку А* будуть реєструватися як ПОМИЛКИ.

Будьте особливо уважні, заповнюючи *бланк А*!  
Не погіршуйте свій результат неправильною формою запису відповідей

43. Установіть відповідність між річкою та материком, на якому вона протікає

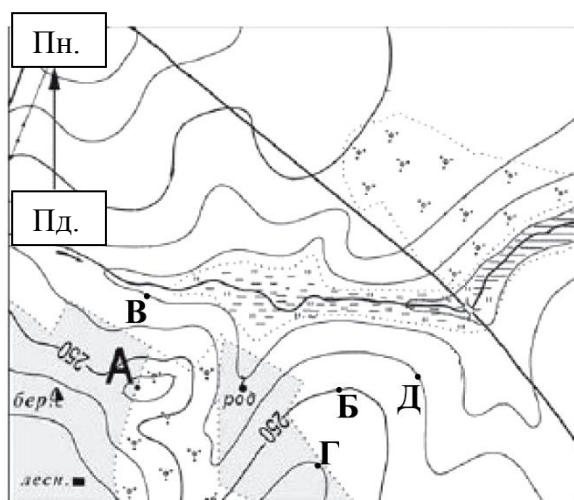
- 1 Замбезі  
2 Парана  
3 Юкон  
4 Купер-Крік

- А Північна Америка  
Б Південна Америка  
В Африка  
Г Австралія  
Д Євразія

	А	Б	В	Г	Д
1					
2					
3					
4					

44. Установіть відповідність між висотами та точками з відповідними висотами, що позначені буквами на фрагменті плану місцевості

- 1 240 м  
2 245 м  
3 250 м  
4 255 м



	А	Б	В	Г	Д
1					
2					
3					
4					

45. Установіть відповідність між галузями господарства України та факторами розміщення, на які вони орієнтуються

- 1 виробництво алюмінію  
2 меблева промисловість  
3 авіаційна промисловість  
4 виробництво калійних добрив

- А енергетичний  
Б споживацький  
В водний  
Г сировинний  
Д кваліфіковані кадри

	А	Б	В	Г	Д
1					
2					
3					
4					



46. Установіть відповідність між крайніми точками України та розташованими до них найближче обласними центрами

- 1 с. Грем'яч
- 2 мис Сарич
- 3 с. Червона Зірка
- 4 м. Чоп

- А Херсон
- Б Луганськ
- В Ужгород
- Г Чернігів
- Д Суми

	А	Б	В	Г	Д
1					
2					
3					
4					

47. Установіть відповідність між країнами Південної Америки, позначеними на карті літерами та їх характеристиками

- 1 країна є одним із світових лідерів за запасами олова, названа на честь видатного борця за свободу країн Південної Америки
- 2 друга за площею країна Південної Америки, назва столиці якої перекладається як «гарне повітря»
- 3 країна названа на честь відомого мандрівника, а у світі відома, перш за все, як великий район наркоторгівлі
- 4 територією цієї країни протікає найповноводніша річка світу, це найбільша в світі країна, населення якої розмовляє португальською



	А	Б	В	Г	Д
1					
2					
3					
4					

48. Установіть відповідність між країнами та релігіями, які сповідує переважна більшість їхнього населення

- 1 Монголія
- 2 Малі
- 3 Греція
- 4 Еквадор

- А конфуціанство
- Б іслам
- В буддизм
- Г католицизм
- Д православ'я

	А	Б	В	Г	Д
1					
2					
3					
4					

**Розв'яжіть завдання 49 – 52. Отримані числові відповіді запишіть у зошиті та бланку А згідно з інструкцією. Усі інші види Вашого запису у бланку А будуть реєструватися як ПОМИЛКИ.**

**Зразок запису чисел:** число 1: 

			1
--	--	--	---

 число 17: 

		1	7
--	--	---	---

 число 123: 

	1	2	3
--	---	---	---

**Будьте особливо уважні, заповнюючи *бланк А!***  
**Не погіршуйте свій результат неправильною формою запису відповідей**

49. Який діаметр по екватору (у см) повинен мати глобус з вираженим рельєфом, щоб на ньому г. Джомолунгма мала висоту 8,85 мм?

□ □ □ □

- 50.** Визначте похил річки (у см/км), якщо її довжина 2625 км, висота витоку – 315 м, а впадає вона в Атлантичний океан.

□ □ □ □

- 51.** Розрахуйте ресурсозабезпеченість країни кам'яним вугіллям (у роках) за такими даними: загальні запаси кам'яного вугілля – 1,5 млрд. тонн; щорічний видобуток – 20 млн. тонн.

□ □ □ □

- 52.** Визначте коефіцієнт зволоження території, на якій випадає 780 мм опадів на рік, а випаровуваність становить 650 мм.

□ □ □ □

Завдання 53–58 мають по сім варіантів відповідей, серед яких тільки ТРИ ПРАВИЛЬНІ. Виберіть три цифри, які позначають правильні, на Вашу думку, варіанти відповідей та запишіть їх у бланку А згідно з інструкцією. Усі інші види Вашого запису у бланку А будуть реєструватися як ПОМИЛКИ.

Будьте особливо уважні, заповнюючи бланк А!  
Не погіршуйте свій результат неправильною формою запису відповідей

53. Оберіть з переліку риси географічного положення, які характерні лише для Антарктиди
- 1 материк омивається водами трьох океанів
  - 2 майже посередині материк перетинається Південним тропіком
  - 3 берегова лінія слабо порізана
  - 4 більша частина материка розташована за Південним полярним колом
  - 5 у межах території материка знаходиться Північний полюс
  - 6 у межах території знаходиться Полюс холоду
  - 7 материк має лише північну крайню точку
- ☐ ☐ ☐
54. Укажіть характеристики зони мішаних лісів України (Полісся)
- 1 займає близько 40 % території України
  - 2 для зони характерна густа річкова мережа
  - 3 близько 70 % опадів випадає в холодний період року
  - 4 у крейдових породах розвинений карст
  - 5 середні температури січня знижуються зі сходу на захід
  - 6 серед рослинності переважають буково-грабові ліси
  - 7 великий вплив на зміну природних комплексів мають водно-меліоративні роботи
- ☐ ☐ ☐
55. Іноземний інвестор вирішив вкласти гроші в господарство Карпатського економічного району, але не може визначитися із галуззю промисловості, в яку доцільно інвестувати. Які з перелічених галузей Ви б могли порекомендувати інвесторові?
- 1 чорна металургія
  - 2 нафтопереробна промисловість
  - 3 літакобудування
  - 4 лісова промисловість
  - 5 сонячна електроенергетика
  - 6 рекреаційний комплекс
  - 7 електронна промисловість
- ☐ ☐ ☐
56. Укажіть три міста, які розташовані у країнах «Великої сімки»
- 1 Лісабон
  - 2 Зальцбург
  - 3 Брістоль
  - 4 Неаполь
  - 5 Мехіко
  - 6 Торонто
  - 7 Мельбурн
- ☐ ☐ ☐

57. Перед Вами карта, яка ілюструє спеціалізацію технічних парків деяких країн Азії. Користуючись нею, визначте вірні твердження щодо економіки цих країн.


☐ ☐ ☐

- усі країни, в яких розташовані зображені на карті технопарки, належать до категорії найменш розвинених
  - ці технопарки розташовані в Нових індустріальних країнах (НІК)
  - технопарки Індонезії зосереджені переважно на острові Суматра
  - єдиний позначений на карті технопарк Філіппін розташований не у столиці країни
  - судячи зі спеціалізації технопарків, ці країни у майбутньому будуть збільшувати обсяг коштів, спрямованих на освіту населення
  - розміщувати технопарки у портових містах Азії недоцільно
  - спеціалізацією технопарків Малайзії є електроніка та мікроелектроніка
58. Виберіть із переліку «велику трійку» латиноамериканських індустріальних лідерів
- Аргентина
  - Панама
  - Уругвай
  - Мексика
  - Чилі
  - Бразилія
  - Куба

☐ ☐ ☐

Кінець тестового зошита