



ТЕСТ З ІСТОРІЇ УКРАЇНИ

Час виконання – 135 хвилин

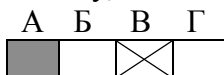
Тест складається з 56 завдань різних форм. Відповіді на завдання Ви маєте позначити в бланку А.

Інструкція щодо роботи в тестовому зошиті

1. Правила виконання завдань зазначені перед кожною новою формою завдань.
2. Відповідайте тільки після того, як Ви уважно прочитали та зрозуміли завдання.
3. У разі необхідності використовуйте як чернетку вільні від тексту місця в зошиті.
4. Намагайтеся виконати всі завдання.

Інструкція щодо заповнення бланка відповідей А

1. До бланка А записуйте лише правильні, на Вашу думку, відповіді.
2. Відповіді вписуйте чітко, згідно з вимогами інструкції до кожної форми завдань.
3. Неправильно позначені, підчищені відповіді в бланку А вважатимуться помилкою.
4. Якщо Ви позначили відповідь 1 – 51 неправильно, можете виправити її, замалювавши попередню позначку та поставивши нову, як показано на зразку:



5. Якщо Ви записали відповідь до котрогось із завдань 52 – 56 неправильно, то можете виправити її, записавши новий варіант відповіді в спеціально відведеному місці бланку А.
6. Ваш результат залежатиме від загальної кількості правильних відповідей, зазначених у бланку А.

Подбай про знання сьогодні!

Товариство з обмеженою відповідальністю «РЕПЕТИТОРСЬКА ГРУПА ЗІГЗАГ»
2014 р.

Запитання 1-42 мають по чотири варіанти відповіді, серед яких лише **ОДИН ПРАВИЛЬНИЙ**. Виберіть правильний, на Вашу думку, варіант відповіді, позначте його в *бланку А* згідно з інструкцією. Не робіть інших позначок у *бланку А*, тому що вони будуть реєструватися як **ПОМИЛКИ**!

Будьте особливо уважні, заповнюючи *бланк А*!
Не погіршуйте власноручно свого результату неправильною формою запису відповідей

1. В який із цих періодів на території України був приручений собака?
А пізній палеоліт
Б мезоліт
В неоліт
Г енеоліт
2. Культурне надбання якого племені являють собою артефакти, зображені на цих ілюстраціях?



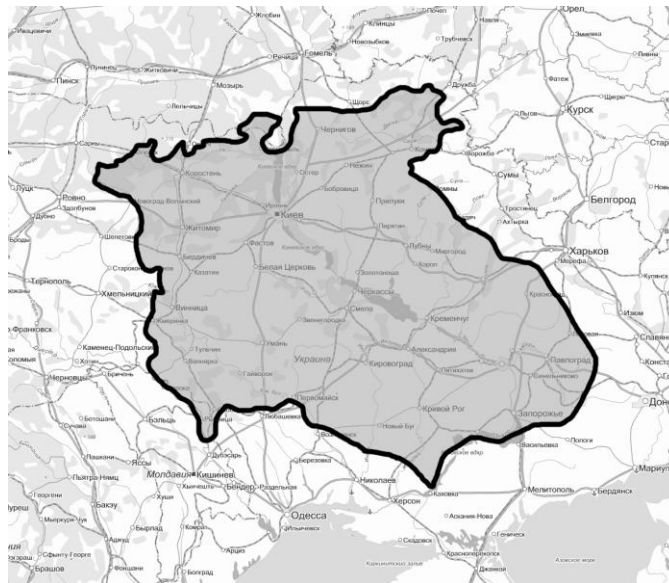
- А трипільці
Б кіммерійці
В скіфи
Г сармати
3. Коли відбулася подія, описана в цьому уривку?
«І сів Олег, княжучи, в Києві, і сказав Олег: «І буде це матір містам руським»
А 860 р. н.е.
Б 882 р. н.е.
В 907 р. н.е.
Г 988 р. н.е.
4. За що мандрівники часто називали Київську Русь «Гардарикою»?
А наявність великої кількості вільних селян
Б визначні культурні досягнення
В наявність великої кількості міст
Г успішні військові походи
5. За часів якого київського князя було засновано Києво-Печерську лавру?
А Володимир Великий
Б Ярослав Мудрий
В Святополк Ізяславич
Г Володимир Мономах

6. Який собор зображено на цій фотографії?



- А Софійський у Києві
Б Спасо-Преображенський у Чернігові
В Св. Пантелеймона у Галичі
Г Успенський у Почаєві
7. Який із наведених уривків датується 1187 р.?
А «...сьогодні вони відняли нашу землю, завтра вашу взято буде...»
Б «...по ньому ж Україна багато стогнала...»
В «... і Василько був збитий з коня, а сам Данило поранений був у груди...»
Г «...обступила Київ сила татарська, і був город в облозі великій...»
8. Які зміни відбулися у податковій системі Великого Князівства Литовського і Королівства Польського після підписання Люблінської унії?
А податкова система обох держав зберегла свою автономність
Б збір податків відтепер контролювали виключно поляки
В нагляд за збиранням податків був доручений воєводам
Г дві окремі податкові системи були об'єднані в одну
9. У якому році відбулася описана подія?
«І коли вони, минувши Канів і Черкаси, дійшли до урочища Сині Води, то побачили в полі велику татарську орду з трьома царками, поділену на три загони. Один загін вів султан Кутлубах, другий очолював Качибей-Керей, а третім командував султан Дімейтер...»
А у 1362 р.
Б у 1385 р.
В у 1449 р.
Г у 1489 р.
10. Якого українського вченого в Італії називали Джорджіо да Леополі?
А М. Смотрицький
Б М. Рогоза
В Ю. Дрогобич
Г С. Оріховський

11. Першим козацьким повстанням після Хотинської війни було
А повстання П. Павлюка
Б повстання Т. Федоровича
В повстання І. Сулими
Г повстання М. Жмайла
12. Яке з наведених воєводств не входило, згідно із Зборівським договором 1649 р., до складу Гетьманщини?
А Київське
Б Подільське
В Брацлавське
Г Чернігівське
13. Який договір обмежив територію Гетьманщини воєводствами, зображеними на карті?



- А Зборівський
Б Білоцерківський
В Гадяцький
Г Чигиринський
14. Оберіть з наведеного переліку слобідські козацькі полки, що існували у другій половині XVII ст.
1. Ізюмський
2. Острогозький
3. Ніжинський
4. Чугуївський
5. Харківський
- А 1, 2, 5
Б 2, 3, 5
В 2, 4, 5
Г 1, 3, 5


15. Прочитайте уривок з одного з творів М. Костомарова і з'ясуйте, про яких гетьманів у ньому йдеться?
«Коли після невдалого кримського походу треба було на когось звалити провину, Голіцин звалив її на гетьмана _____: його позбавили гетьманства, відіслали у Сибір з натовпом рідних і прибічників, сину його Григорію відрубали голову, а обрали гетьманом _____, головним чином тому, що цього так хотілося Голіцину»
А І. Самойлович, І. Мазепа
Б І. Сірко, П. Дорошенко
В І. Брюховецький, Д. Многогрішний
Г І. Виговський, П. Тетеря
16. На запропонованому малюнку зображено обкладинку перевидання документа, прийнятого за часів гетьмана



- А П. Дорошенка
Б І. Самойловича
В І. Мазепи
Г П. Орлика
17. Судова реформа, боротьба з корупцією, протидія рішенням Першої Малоросійської колегії у фінансовій і соціальній сфері – елементи діяльності гетьмана
А І. Скоропадського
Б П. Полуботка
В Д. Апостола
Г К. Розумовського
18. Який повстанський рух змальовано в цьому уривку з твору Т. Г. Шевченка?
*«...Старшина перший
Та й син же штука!
Я вчора зустрівся з Залізняком;
таке розказує про його, що цур йому!
"Кошовим, - каже, - буде,
та й годі; а може, ще і гетьманом,
коли теє..."
Старшина другий
А Гонта нащо? а Залізняк? ...»*
А повстання С. Палія
Б Коліївщина
В рух опришків
Г повстання У. Кармалюка

19. Який регіон України у ХІХ столітті став значним поставником зерна на світовий ринок?
А Лівобережжя
Б Правобережжя
В Південь
Г Слобожанщина

20. На якому з поданих малюнків зображено письменника Пантелеймона Куліша?



21. Хто автор цієї картини?



- А В. Тропінін
Б М. Самокиш
В С. Васильківський
Г І. Рєпін

22. В якому місті побудовано споруду, зображену на фото?

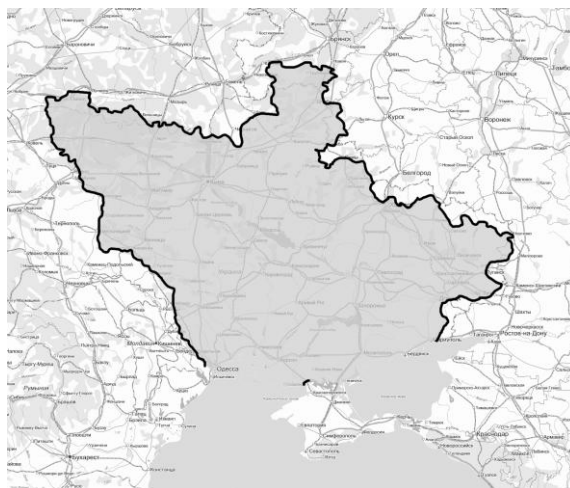


- А Київ
Б Одеса
В Львів
Г Вінниця

23. На честь якого гетьмана скульптор М. Микешин звів цей пам'ятник?



- А П. Сагайдачний
Б Б. Хмельницький
В І. Мазепа
Г К. Розумовський
24. Яка нова галузь економіки почала бурхливо розвиватися у Західній Україні наприкінці ХІХ ст.?
А машинобудування
Б електротехнічна промисловість
В видобуток золота
Г нафтодобування
25. Яка з цих подій сталася не у 1914 р.?
А утворення легіону Українських січових стрільців
Б утворення Головної руської ради
В утворення Головної української ради
Г утворення Союзу визволення України
26. Який документ обмежував Україну територією, що зображена на карті?



- А Тимчасова інструкція Генеральному Секретаріатові Тимчасового уряду в Україні
Б III-й Універсал Центральної Ради
В Брестський договір
Г Грамота до всього українського народу

27. Про кого йде мова в даному уривку зі спогадів генерала А. Денікіна?
«Я викликав до себе генерала і запропонував йому стримати різкий хід українізації та, зокрема, відновити права командного складу або відпустити його з корпусу. Майбутній гетьман заявив, що ...він істинно російська людина, гвардійський офіцер і зовсім далекий од самостійності, якій сам не співчуває...»
А Є. Петрушевич
Б П. Скоропадський
В С. Петлюра
Г О. Корнілов
28. Який з цих пунктів міститься у Варшавському договорі з Польщею?
А польські війська на території України переходять під командування С. Петлюри
Б Польща відмовилася від претензій на території ЗУНР
В Польща зобов'язалася озброювати війська УНР
Г Польща на час бойових дій отримала військові бази на Поділлі
29. З якою культурною сферою пов'язані такі імена: Г. Борисоглібський, Л. Гаккебуш, О. Мар'яненко, О. Сердюк, Л. Курбас?
А музика
Б література
В театр
Г скульптура
30. Який з наведених фактів є одним із результатів сталінської індустріалізації?
А досягнення економічної незалежності СРСР
Б збільшення виробництва товарів повсякденного вжитку
В перетворення СРСР на індустріальну державу
Г стимулювання інтенсивного розвитку економіки
31. Яким роком датується польська урядова політика, спрямована на утихомирення, замирення локалізованих національних меншин?
А 1928 р.
Б 1929 р.
В 1930 р.
Г 1932-1933 рр.
32. 3 липня 1942 р. Ставка Верховного Головнокомандування «...віддала наказ про евакуацію військ, проте вже було пізно. Евакуюватися змогла лише невелика частина захисників міста». Про яке місто йдеться?
А Київ
Б Донецьк
В Харків
Г Севастополь
33. Яке з наведених явищ не було характерним для сільського господарства Радянського Союзу після закінчення Другої світової війни?
А скорочення кількості працездатного населення
Б скорочення посівних площ, зношеність техніки
В ліквідація загрози голоду
Г зниження обсягів виробництва продуктів

34. Який діяч у 1957-1963 рр. був першим секретарем ЦК КПУ?
А О. Кириченко
Б М. Підгорний
В П. Шелест
Г В. Щербицький
35. Іменами яких діячів названа реформа, проведення якої дало можливість говорити про «золоту п'ятирічку» в історії СРСР?
А О. Косигін і Є. Ліберман
Б О. Гречко та Р. Малиновський
В А. Суслов і С. Горшков
Г М. Байбаков і М. Тіхонов
36. Який із дисидентів виступив під час показу фільму «Тіні забутих предків» С. Параджанова 4 вересня 1965 р. із закликом «Хто проти тиранії — встаньте!»?
А І. Дзюба
Б П. Григоренко
В Л. Лук'яненко
Г В. Чорновіл
37. За часів якого радянського лідера можна було придбати подібні поштові марки?



- А Л. Брежнєва
Б Ю. Андропова
В К. Черненко
Г М. Горбачова
38. Який український письменник є автором творів «День для прийдешнього», «Диво», «Роксолана» та «Я, Богдан»?
А Є. Гуцало
Б О. Гончар
В О. Довженко
Г П. Загребельний
39. Коли відбулися перші в історії незалежної України президентські вибори?
А у березні 1991 р.
Б у серпні 1991 р.
В у вересні 1991 р.
Г у грудні 1991 р.

40. За часів якого Президента було прийнято Конституцію України?
А Л. Кравчук
Б Л. Кучма
В В. Ющенко
Г В. Янукович
41. Про яке явище писав польський публіцист М. Лентовський?
«Сьогодні найважливішою задачею нашої східної політики є укріплення свіжої незалежності Києва. Наступною буде підготовка ґрунту для...». «...В Мінську... Будемо робити все, що в наших силах, щоб наблизити день, коли переможе і в Москві...»
А євроінтеграція
Б помаранчева революція
В конституційна реформа
Г Парламентсько-президентська республіка
42. Коли В. Янукович уклав Харківські угоди з Росією?
А 2009 р.
Б 2010 р.
В 2011 р.
Г 2012 р.

У завданнях 43—48 до кожного з чотирьох рядків інформації, позначених цифрами, виберіть **ОДИН ПРАВИЛЬНИЙ**, на Вашу думку, варіант, позначений буквою. Поставте позначки в таблицях відповідей до завдань у *бланку А* на перетині відповідних рядків (цифри) і колонок (букви). Не робіть інших позначок у *бланку А*, тому що вони будуть реєструватися як **ПОМИЛКИ!**

Будьте особливо уважні, заповнюючи <i>бланк А!</i> Не погіршуйте власноручно свого результату неправильною формою запису відповідей
--

43. Установіть відповідність між князями Галицько-Волинського князівства та елементами їхньої діяльності
- | | | |
|---|------------------|---|
| 1 | Данило Галицький | А надання кільком містам
Магдебурзького права |
| 2 | Юрій-Болеслав II | Б активне сприяння розвитку культури |
| 3 | Лев I Данилович | В прийняття титула короля Русі та
князя Володимира |
| 4 | Юрій I Львович | Г перенесення столиці з Холму до
Львова у 1270 р.
Д будівництво нових фортифікаційних
споруд та їх знищення за наказом
монголів |

	А	Б	В	Г	Д
1					
2					
3					
4					

44. Установіть відповідність між гетьманами та їхньою діяльністю

1 Д. Апостол

А боротьба з корупцією, легенда про золото

2 І. Скоропадський

Б введення єдиної військової форми, перенесення столиці до Києва

3 К. Розумовський

В укладання «Рішительних пунктів», відкриття співочої школи у Глухові

4 П. Полуботок

Г прийняття Конституції, спроба організувати антиросійський похід

Д участь у Полтавській битві на стороні Росії, подання до розгляду Решетилівських статей

	А	Б	В	Г	Д
1					
2					
3					
4					

45. Установіть відповідність між подіями та роками, в які вони відбулися

1 Утворення Головної Руської Ради

А 1848 р.

2 Відкриття Київського університету

Б 1863 р.

3 Видання «Кобзаря» Т. Г. Шевченка

В 1840 р.

4 Валуївський циркуляр

Г 1861 р.

Д 1834 р.

	А	Б	В	Г	Д
1					
2					
3					
4					

46. Установіть відповідність між уривками з документів та їх назвами.

1 II Універсал Центральної Ради

А «Управління Україною буде провадитися через посередництво призначеного мною Кабінету Міністрів... Центральна і Мала Рада... з нинішнього дня розпускаються...»

2 Грамота до всього українського народу

Б «Віднині Україна стає Українською Народною Республікою. Не відділяючись від республіки Російської і зберігаючи єдність її, ми твердо станемо на нашій землі...»

3 Акт Злуки

В «Хай буде Україна вільною. Не одділяючись від всієї Росії, не розриваючи з державою російською, хай народ український на своїй землі має право сам порядкувати своїм життям...»

4 III Універсал Центральної Ради

Г «Віднині на всіх українських землях, розділених віками, Галичині, Буковині, Закарпатській Русі й Наддніпрянщині буде єдина велика Україна»

Д «Що торкається комплектування українських військових частин, то для цього Центральна рада матиме своїх представників при кабінеті військового міністра, при Генеральному штабі і при Верховному головнокомандуючому...»

	А	Б	В	Г	Д
1					
2					
3					
4					

47. Установіть відповідність між поняттями, термінами та їхніми визначеннями.
- | | |
|-------------------|---|
| 1 депортація | А систематичне переслідування і знищення європейських євреїв і циган нацистською Німеччиною |
| 2 колабораціонізм | Б вигнання, висилка з постійного місця проживання або держави окремих осіб чи народів |
| 3 новий порядок | В підпільна і повстанська боротьба народів Європи проти окупації Німеччиною та її союзниками |
| 4 Голокост | Г співпраця населення або громадян держави з ворогом в інтересах ворога-загарбника |
| | Д нацистська політика в окупованих країнах |

	А	Б	В	Г	Д
1					
2					
3					
4					

48. Установіть відповідність між періодами в історії України та поняттями й термінами, які їх характеризують
- | | |
|---|--|
| 1 Доба «відлиги» (1956 – 1964 рр.) | А самвидав, дефіцит, номенклатура |
| 2 Україна в період загострення кризи радянської системи (1965–1985 рр.) | Б ждановщина, лисенківщина, депортація |
| 3 Україна в роки перебудови (1985 – 1991 рр.) | В дисидентство, лібералізація, раднаргоспи |
| 4 Україна в умовах незалежності (1991 – ...) | Г касетний скандал, конституційна реформа, євроінтеграція |
| | Д гласність, плюралізм, суверенітет |

	А	Б	В	Г	Д
1					
2					
3					
4					

У завданнях 49–52 розташуйте події в хронологічній послідовності. Поставте позначки в таблицях відповідей до завдань у *бланку А* на перетині відповідних рядків (цифри) і колонок (букви). Цифрі 1 має відповідати вибрана Вами перша подія, цифрі 2 – друга, цифрі 3 – третя, цифрі 4 – четверта. Не робіть інших позначок у *бланку А*, тому що вони будуть реєструватися як **ПОМИЛКИ!**

Будьте особливо уважні, заповнюючи *бланк А!*
Не погіршуйте власноручно свого результату неправильною формою запису відповідей

49. Розташуйте події в хронологічній послідовності
- | |
|---|
| А утворення погостів – місць збирання данини |
| Б укладення економічної частини «Руської правди» |
| В повторне обкладання даниною племені деревлян |
| Г поява перших князівських монет на Русі |

	А	Б	В	Г
1				
2				
3				
4				

- 50.** Розташуйте події в хронологічній послідовності
- А** «Того ж року гетьман війська запорізького Наливайко, розбивши мадьярів, повернув на Україну і не застав уже в живих Косинського; як син православ'я, зневажаючи новоявлену унію, він зібрав серед низових козаків побільше війська і рушив на Литву»
- Б** «Та перш ніж обидва походи зійшлися, послав Хмельницький до реєстрових козаків Ганжу, особливого посланця, і наказав розповісти їм про свою силу, про татар і звернутися до них з такими словами: «Чию кров йдете проливати? Чи не братів своїх? Чи ж у нас не одна мати — Україна?»
- В** «Про безчинства Виговського на Україні дізналась царська величність і послала супроти нього великоруське воїнство, двадцятитисячний загін на чолі з боярином Григорієм Григоровичем Ромоданівським»
- Г** «Петро Сагайдачний, славний гетьман запорізький, великий оборонець віри православної та ктитор Братського монастиря і шкіль латинських, преставився; тіло його віддане землі в Києві, у Братському монастирі, і схоронене було з великим сумом війська запорізького і всього люду православного»
- 51.** Розташуйте події в хронологічній послідовності
- А** прийняття II Універсалу Центральної Ради
- Б** Ризький мир
- В** Брестський мир
- Г** Всеукраїнський національний конгрес
- 52.** Розташуйте події в хронологічній послідовності
- А** вибух на Чорнобильській АЕС
- Б** утворення Української робітничо-селянської спілки
- В** XX з'їзд КПРС
- Г** усунення М. Хрущова з усіх керівних посад

Завдання 53—56 мають по сім варіантів відповідей, серед яких лише ТРИ ПРАВИЛЬНІ. Виберіть цифри, що позначають правильні, на Вашу думку, відповіді та запишіть їх у бланку А згідно з інструкцією. Не робіть інших позначок у бланку А, тому що вони будуть реєструватися як ПОМИЛКИ!

Будьте особливо уважні, заповнюючи бланк А!
Не погіршуйте власноручно свого результату неправильною формою запису відповідей

- 53.** Які з цих гетьманських статей були прийняті у період 1668-1688 рр.?

- 1 Решетилівські І. Скоропадського
- 2 Батуринські І. Брюховецького
- 3 Переяславські Ю. Хмельницького
- 4 Московські І. Брюховецького
- 5 Конотопські І. Самойловича
- 6 Коломацькі І. Мазепи
- 7 Глухівські Д. Многогрішного

--	--	--

54. Які з цих творів належать перу І. Карпенка-Карого?

- 1 «Ой, не ходи, Грицю, та й на вечорниці»
- 2 «Маруся Богуславка»
- 3 «Безталанна»
- 4 «Глитай, або ж павук»
- 5 «Мартин Боруля»
- 6 «Дай серцю волю, заведе в неволю»
- 7 «Хазяїн»

☐☐☐

55. Укажіть фотографії діячів, що входили до складу Директорії УНР.

☐☐☐


1



2




3



4



5



6



7

56. З наведеного списку оберіть події, що не стосуються до періоду Великої Вітчизняної війни

- 1 проголошення незалежності Карпатської України
- 2 включення Волині і Східної Галичини до складу СРСР
- 3 Корсунь-Шевченківська операція
- 4 проголошення Акта відновлення Української держави
- 5 операція «Вісла»
- 6 битва за Дніпро
- 7 операція «Зірка»

☐☐☐

Кінець тестового зошита